

## 2009학년도 1학기 중간고사 3학년 사회과 (과목코드 : 03 )

실시일: 4월 30일 2교시

객관식 : 1문항×4점 + 14문항×3점 + 2문항×2점 = 50점  
주관식 : 서술형 9문항 = 50점

만점 100점

※ 다음은 객관식 문제입니다. 문제를 잘 읽고 컴퓨터용 싸인펜으로 OMR카드의 해당 번호에 정답을 표기하기 바랍니다.

1. 다음은 민주정치의 발전에 대한 학생들의 대화이다. 옳은 것은?

- ① 잔디: 고대 그리스에는 대표자를 선출해 간접적으로 참여하여 민주주의 기원이 확립되었어.
- ② 준표: 중세 시대에는 국민의 일부만이 시민권이 부여된 제한된 형태의 민주주의였지.
- ③ 지후: 대헌장, 권리청원, 권리장전 등의 문서들은 입헌군주 정치를 가능케 하였어.
- ④ 이정: 근대 이후에는 의회의 권한이 약화되었어.
- ⑤ 우빈: 현대에는 바이마르 헌법 제정을 시초로 자유권, 평등권이 보장되고 있어.

2. 의회제에 대한 설명으로 옳은 것은?

- ㄱ. 영토가 넓고, 인구가 많은 현대사회에서 민주주의 실현을 위해 요구되는 제도이다.
- ㄴ. 법을 제정할 뿐만 아니라, 수립한 정책을 집행하는 역할을 한다.
- ㄷ. 국회의원의 임기는 4년이며, 선거를 통해 선출된다.
- ㄹ. 지역구 의원은 지역구에서 직접 선출하며, 비례대표 의원은 최다 득표를 얻은 후보자로 선출된다.
- ㅁ. 시·군·구 단위의 입법기관은 기초의회이다.

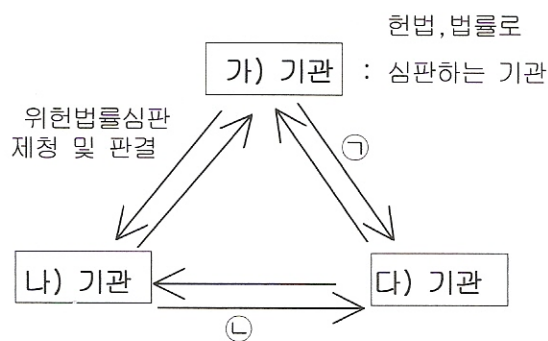
- ① ㄱ, ㄴ, ㅁ
- ② ㄱ, ㄷ, ㄹ
- ③ ㄱ, ㄷ, ㅁ
- ④ ㄴ, ㄷ, ㄹ
- ⑤ ㄴ, ㄷ, ㅁ

3. 다음의 제도가 하는 역할로 옳지 않은 것은?

이것은 국가로부터 자유롭고 공개적인 의사 형성과 공동체의 정치적 구성에 있어서 필수 불가결한 기능을 수행한다. 그러나 최근에는 이 제도가 정치과정에 국민의 의사를 적절하게 대표해주는가에 대한 국민의 실망이 늘고, 관심이 줄어 이익집단, 시민단체로의 정치참여가 늘고 있다.

- ① 국민을 위한 정책을 제시한다.
- ② 정치적 의사를 형성하고 조직화한다.
- ③ 각종 선거에 후보자를 선출한다.
- ④ 대표자에게 정당성을 부여한다.
- ⑤ 의회 의원들 사이에 질서와 통일을 유지한다.

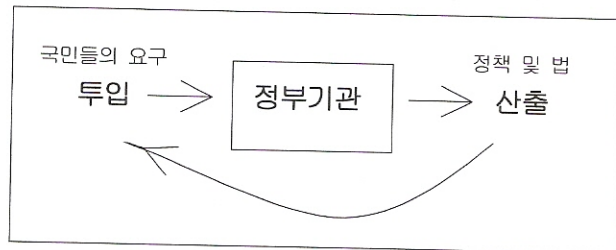
4. 삼권분립제도를 도식화한 그림이다. 가), 나), 다)는 각각의 정부기관으로서 견제와 균형의 원리에 따라 존재하고 있다. ㉠, ㉡에 해당하는 권한으로 연결이 옳은 것은?(4점)



- |              |            |
|--------------|------------|
| ㉠            | ㉡          |
| ① 탄핵 소추권     | 명령규칙 심사권   |
| ② 사면권        | 법률안 거부권    |
| ③ 법률안 거부권    | 대법원장 임명동의권 |
| ④ 대법원장 임명동의권 | 사면권        |
| ⑤ 명령규칙 심사권   | 탄핵 소추권     |

< 뒷면에 계속됩니다.>

5. 다음의 과정에 대한 설명으로 옳지 않은 것은?



- ① 국민의 뜻이 표출되고 집약되어 갈등요소가 해결되고 사회통합에 이르는 정치적 활동을 말한다.
- ② 현대 사회에는 정부 중심으로 그 과정이 진행된다.
- ③ 정책 집행 과정에서 예상하지 못한 현실적인 문제점이 나타나므로 다시 해석하고 보완해야 한다.
- ④ 이 과정에서 다원적 이익이 정치화된다.
- ⑤ 이 과정에 참여가 적극적일때, 소수 권력자들에 의한 편의주의적 정책을 막을 수 있다.

6. 다음 보기를 통해 알 수 있는 공정한 선거의 원칙으로 옳은 것은?

<국민에게 알림>

19세 이상의 모든 국민에게 선거권을 부여합니다.

여성: 드디어 나도 시민으로서 권리를 갖게 됐구나! 나도 여성이라는 이유로 소외되지 않고 자유롭고 평등하게 정치에 참여할 수 있게 되었어..



- ① 보통 선거
- ② 평등 선거
- ③ 비밀 선거
- ④ 직접 선거
- ⑤ 차등 선거

7. 자원의 희소성으로 발생하는 세 가지 경제문제 중 '누구를 위하여 생산할 것인가'의 문제에 해당하는 것으로 옳은 것은?

- ㄱ. 구두공장 사장: "이번 시즌에는 손으로 만든 수제구두를 만들까, 기계로 구두를 찍어낼까?"
- ㄴ. 연예인 기획사 사장: "신인가수의 인기로 얻은 수익을 가수에게 더 나누어 줄까, 홍보활동을 한 직원에게 나누어 줄까?"
- ㄷ. 방송국 PD: "새로운 프로그램을 청소년 드라마를 만들 것이냐, 다큐멘터리를 만들 것이냐."
- ㄹ. 김밥집 주인: "오늘 팔 김밥을 100개를 만들어 놓을 것인가, 300개를 만들어 놓을 것인가."
- ㅁ. 학원 선생님: "1학기 강좌를 직접 학생들이 오는 강의로 할 것이냐, 집이 먼 학생들을 위하여 인터넷강의로 할 것이냐"

- ① ㄱ                      ② ㄴ                      ③ ㄷ
- ④ ㄹ                      ⑤ ㅁ

8. 다음은 원시사회로부터 현대사회까지의 경제사회의 변화를 나타낸다. 이에 대한 설명으로 옳은 것은?

A 사회 → B 사회 → C 사회  
농업중심      공업중심      정보산업중심

- ㄱ. A사회는 노동자와 자본가계급이 대립하게 된다.
- ㄴ. 산업혁명은 A사회에서 B사회로의 변화를 촉진 시켰다.
- ㄷ. B사회에서는 공장제 기계공업이 발달하였다.
- ㄹ. C사회는 다품종 소량생산이 이루어진다.
- ㅁ. C사회의 중요 자원은 자본이다.

- ① ㄱ, ㄴ, ㄷ                      ② ㄱ, ㄷ, ㅁ
- ③ ㄴ, ㄷ, ㄹ                      ④ ㄴ, ㄹ, ㅁ
- ⑤ ㄷ, ㄹ, ㅁ


< 다음 장에 계속됩니다.>



9. 다음은 조선 건국 과정에 대한 가상 대화이다. 인물과 대화 내용이 바르게 연결된 것은?

- ① 우왕 : '위화도에서 회군을 감행하라.'
- ② 최영 : '오로지 천명노선 만이 살 길이다.'
- ③ 정몽주 : '새 왕조를 열어야 개혁이 가능하다.'
- ④ 조준 : '토지제도를 개혁해 과전법을 실시하자'
- ⑤ 이성계 : '권문세족을 중심으로 나라를 건국하자.'

10. 다음 기구를 통해 알 수 있는 당시 사회 모습은?(2점)



- ① 역법을 만들 정도로 과학기술이 발전하였다.
- ② 모내기법이 남부 일부 지방에 도입되었다.
- ③ 목화가 재배되어 의생활이 많이 개선되었다.
- ④ 전국에 장시가 형성되어 생활이 편리해졌다.
- ⑤ 가뭄과 홍수의 피해를 줄일 수 있게 되었다.

11. 조선 과거제 중 다음 설명에 해당하는 것은?

응시과목

- 한어, 문어, 왜어, 여진어 등
- 천문학, 지리학, 명과학 등

- ① 대과 ② 무과 ③ 잡과 ④ 생원과 ⑤ 진사과

12. 다음 조선의 대외관계 중 명나라에 대한 것을 고르면?

- ① 친선 관계를 위해 3포를 개항하였다.
- ② 임경업 장군이 백마산성에서 항쟁하였다.
- ③ 최윤덕이 압록강 방면에 4군을 설치하였다.
- ④ 조선은 주로 구리, 황, 향료를 수입하여 왔다.
- ⑤ 정도전은 군사훈련, 군량미 비축 등 영토 수복 계획을 추진하였다.

13. 다음 밑줄 친 부분에 가장 적합한 왕은?

조선 왕조는 처음부터 어느 특정 개인이나 집단에 게 권력이 모이지 않도록 하는 체제를 제도적으로 마련했다. 무엇보다 권력분산과 공론을 바탕으로 한 언론 개방이 조선시기 관료 체제의 특성이었다. 언론은 이러한 체제에서 중심 역할을 하였다. 언론은 곧 삼사의 관원을 특별히 일컫는 이름이다. 삼사의 언론 언론은 왕권 강화와 부국강병에 힘쓴 시기에는 활동이 뜸했고 관용정치를 베푼 시기에는 비교적 활발했다.

- ① 태종 ② 문종 ③ 성종 ④ 중종 ⑤ 선조

14. 다음의 향촌 세력을 가장 잘 파악한 것은?(2점)

이들은 대대로 그 지방에 살면서 오랫동안 행정 실무를 맡아 왔기 때문에 지방 사정에 밝았다. 그러므로 이들의 보조 없이는 지방을 매끄럽게 다스려 나갈 수 없었다. <이성무, 조선초기의 향리>

- ① 수령의 비행을 감찰하는 관리이다.
- ② 지방 행정의 총 책임자라고 할 수 있다.
- ③ 실제로 군역을 담당하여 5위에 편성되었다.
- ④ 백성을 교화하고 향회를 통해 여론을 주도하였다.
- ⑤ 6방으로 나뉘어 조세징수, 호구조사 등과 관련된 지방 행정 실무를 처리하였다.

15. 임진왜란 직전 국제정세로 옳은 것은?

- ① 후금이 건국되어 명을 위협하였다.
- ② 대립제와 군포제로 군역이 문란하였다.
- ③ 이괄의 난이 발생하여 침략 구실이 되었다.
- ④ 도요토미의 사망으로 사회가 혼란스러웠다.
- ⑤ 남한산성, 북한산성을 수축하고 군대를 양성했다.

16. 무오사화에 대한 다음 설명 중 바른 것은?

- ① 사림 내부의 분열과 대립으로 발생하였다.
- ② 유자광은 서원과 향약의 지지를 받고 있었다.
- ③ 관리 임명 문제와 공론을 둘러싸고 발생하였다.
- ④ 관련자 중 김일손은 길재의 학통을 이어받았다.
- ⑤ 조광조의 개혁정치가 원인이 되어 발생하였다.

< 뒷면에 계속됩니다.>

17. 다음 연표의 각 시기에 있었던 일을 설명한 것으로 맞는 것은?

①광해군	②	③삼전도 강화	④효종	⑤
------	---	---------	-----	---

- ① 북벌론 전개                      ② 나선정벌 추진  
 ③ 동의보감 편찬                  ④ 중립외교 추진  
 ⑤ 북학운동 전개

※ 다음은 서술형 문제입니다. 문제를 잘 읽고 별도의 서술형 답지에 기록하기 바랍니다.

1. 링컨의 게티즈버그 연설문의 일부이다 이 연설을 통해 우리는 민주주의 의미에 대한 이해를 할 수 있다. 다음의 밑줄 친 부분을 읽고 물음에 답하시오.

...이 나라는 새로운 자유의 탄생을 보게 될 것이며 ㉠국민의, ㉡국민에 의한, 국민을 위한 정부는 이 땅에서 결코 사라지지 않을 것이다...

(1) ㉠에 해당하는 의미를 쓰시오.(2점)

(2) ㉡에 해당하는 의미를 쓰시오.(2점)

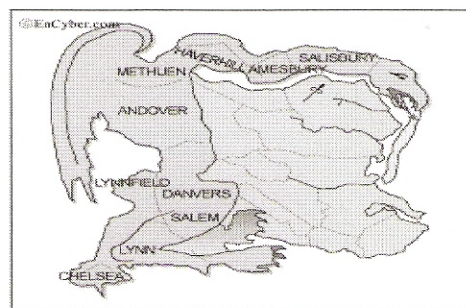
2. 다음을 읽고 물음에 답하시오.(6점)

작은 정부(= ㉠)의 등장으로 국민의 자유와 평등은 보장되는 듯 했다. 그러나, 빈부격차, 환경오염, 사회 불평등 등 수 많은 문제가 나타났다. 이를 해결하기 위해 큰 정부(=복지국가)가 등장하여 적극적으로 개입하기 시작했다.

(1) 작은 정부를 의미하는 개념 ㉠은 무엇인가?(3점)

(2) 큰 정부의 등장으로 인해 발생한 문제점은?(3점)

3. 다음 그림은 1812년 메사추세츠 주지사 '게리'가 자신이 속한 정당에 유리하도록 선거구를 불합리하게 조정한 지역의 모습이다. 이 사건을 계기로 공정한 선거를 위한 새로운 제도가 확립되었다. 이 제도가 무엇인지 쓰시오.(5점)



4. 다음은 정치과정에 활발하게 참여하는 특정 정치단체들의 기본 입장이다. A, B와 같은 단체(집단)의 목표를 정당의 목표와 비교하여 서술하시오.(정당의 목표도 서술할 것).(5점)

< A단체(집단) >

우리 단체는 전 경영계  
 의 긴밀한 제휴를 통하여  
 노사 간의 이해를 증진하  
 고 그를 통한 산업 평화  
 의 정착화에 기여하는 한  
 편 기업 경영의 합리화를  
 도모한다.

< B단체(집단) >

우리는 자주, 민주, 통일,  
 연대의 원칙 아래 굳게  
 뭉쳐 노동자의 정치, 경  
 제, 사회적 지위를 향상  
 하는 그날까지 힘차게 투  
 쟁할 것을 선언한다.

5. 다음을 읽고 '공기'라는 재화의 성격변화에 대하여 서술하시오.(5점)

약사: 어서오세요!

고3수험생 엄마: 저기.. 요새 잘나간다는 '제주에서 얻은 깨끗한 공기' 한 병 주세요.

약사: 15000원입니다.

고3 수험생 엄마: 비싸기도 해라.. 내가 어렸을 적에는 상상도 못할 일이지..공기를 돈 주고 사다니.

약사: 그러게요. 그래도 요즘같이 공기가 오염됐으니, 어쩔 수 없지요. 돈을 주고라도 맑은 공기를 마시면 피로가 풀린다니깐..^^ 수험생들에게 인기가 좋아요.

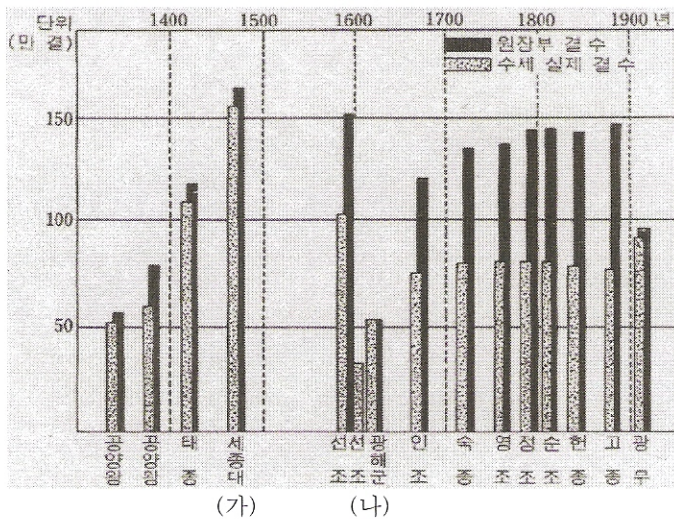
< 다음 장에 계속됩니다.>



6. 다음은 15세기 조창의 수세구역에 관한 표이다. 표의 내용 가운데 틀린 것 한 가지를 쓰시오.(4점)

조창명	조창의 수세구역(세곡 거두는 구역)
장호원	경기도 여러 읍, 강원도 회양 철원 등
조읍포창	황해도 강음, 황주, 서흥 등
영산창	전라도 나주, 순천, 강진 등
법성창	전라도 영광, 홍덕, 부안 등

7. 다음은 조선시대 전국 경작지 면적의 변화에 관한 표이다. 표를 잘 보고 물음에 답하시오.



(1) 위의 표(가) 세종 때의 토지 결수 변화는 무엇 때문인지 그 원인을 한 가지 쓰시오.(4점)

(2) 위의 표(나) 선조와 광해군 때 토지 결수에 변화가 생겼다. 그 원인이 된 전쟁이 무엇인지 쓰시오.(4점)

8. 다음 글을 잘 읽고 물음에 답하시오.

도원수 강홍립에게 가르침을 내렸다. “...중국 장수의 말을 그대로 따르지 말고 패하지 않을 방도를 강구하는 데만 힘을 쓰라.” <광해군 일기>

(1) 광해군의 이러한 결정은 어떤 배경에서 나왔는지 당시 후금의 형세를 중심으로 간략히 서술하시오.(4점)

(2) 이러한 광해군의 정책을 문제 삼아 일부 사람이 명예에 대한 의리와 명분을 내세우며 벌인 일이 무엇인지 쓰시오.(3점)

9. 조선의 친명배금정책은 여진족의 침입을 불러왔다. 여진족의 침입에 대한 다음 표를 완성하시오.(3점씩 6점)

명칭	(1)	병자호란
원인	조선이 모문룡의 명군 지원	청의 군신관계 요구 거절
전개	황해도까지 침입	(2) 에서 45일간 항전
결과	형제관계 수용	군신관계 수용

<끝. 수고하셨습니다.>