

초급

2009년도

제 6회 한국사능력검정시험 문제지

국사편찬위원회

성명

수험 번호

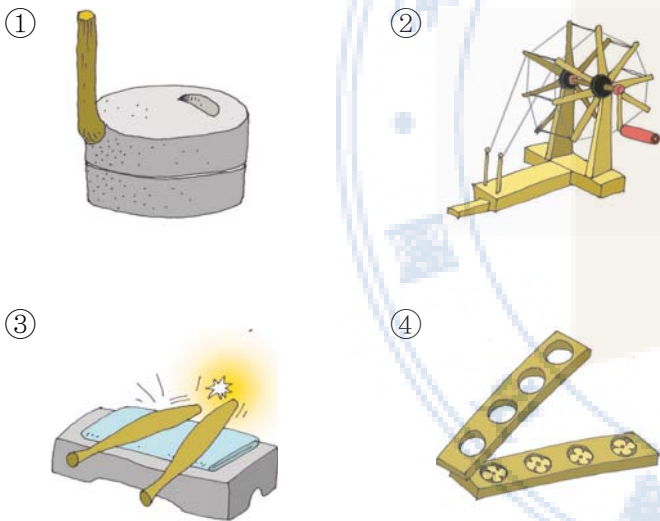
- 자신이 선택한 등급의 문제지인지 확인하십시오.
- 문제지에 성명과 수험 번호를 정확히 써넣으십시오.
- 답안지에 성명과 수험 번호를 써넣고, 또 수험 번호와 답을 정확히 표시하십시오.
- 시험 시간은 60분입니다.

1. 제시된 물건과 같은 기능을 가진 도구로 적절한 것은?


[2 점]



갈돌과 갈판



2. 성현이는 어린이 역사박물관에서 그림과 같은 모빌을 만드는 체험 활동을 하였다. 이와 같은 모빌은 어떤 유물을 보고 만들었는가? [3점]



- ① 발해 기와 ② 조선 풍속화
- ③ 백제 금동 대향로 ④ 반구대 바위그림

3. 석호네 반에서는 사다리타기 역사 수업을 하였다. 유물과 전시실이 바르게 연결된 것은? [2 점]



- ① 구석기실 ② 신석기실 ③ 청동기실 ④ 철기실

4. 다혜는 고조선에 대한 책자를 만들었다. 이 책자에 들어갈 내용으로 옳지 않은 것은? [2점]



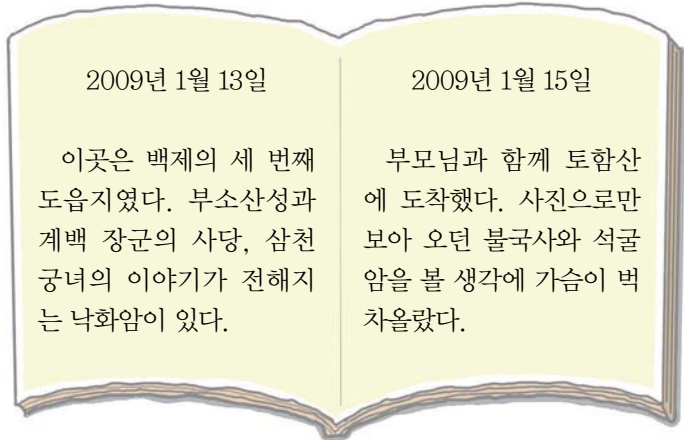
- ① 건국 정신은 '홍익인간'이었다.
- ② 세운 사람은 단군왕검으로 불렸다.
- ③ 기원전 2333년에 세워졌다고 한다.
- ④ 건국 이야기는 삼국사기에 실려 있다.

5. 우진이는 경주로 체험 학습을 가서 석빙고를 보았다. 조상들이 이곳에 넣어 두었던 것은? [3점]



- ① 쌀 ② 관 ③ 얼음 ④ 무기

6. 다음은 경호가 옛 도읍지를 답사하고 쓴 일기이다. 경호가 다녀온 곳을 순서대로 바르게 나열한 것은? [2점]



- ① ㉠ → ㉡
- ② ㉡ → ㉢
- ③ ㉢ → ㉣
- ④ ㉣ → ㉠

7. 준영이는 고구려 고분 벽화를 알아보기 위해 인터넷 검색을 하였다. 검색 결과로 옳지 않은 것은? [3점]



8. 다음은 가상 인터뷰의 일부분이다. 이 자료의 시대적 상황에 해당하는 사회 교과서의 차례는? [3점]

‘삼국 통일을 완수한 문무왕을 만나다’
 기 자 : 삼국 통일을 이룩하신 것을 축하합니다.
 문무왕 : 감사합니다. 아버지이신 무열왕과 외삼촌인 김유신 장군 두 분 다 통일을 위해 많은 노력을 하셨는데, 함께 통일을 맞이하지 못한 것이 너무 아쉽습니다.
 기 자 : 무열왕과 김유신 장군은 삼국을 통일하기 위해 어떤 노력을 하셨는지요?
 문무왕 : 신라가 한강 하류 지역을 차지한 후 고구려와 백제는 계속 신라를 공격하였습니다. 특히 백제의 의자왕 때문에 신라는 편할 날이 없었습니다. 아직 왕위에 오르시기 전의 무열왕께서 백제를 물리치기 위해 외교적인 노력을 많이 하셨습니다.

1. 하나로 뭉친 겨레
- 1. 처음으로 세운 나라 고조선①
 - 2. 힘을 거루며 성장한 세 나라
 - 3. 삼국을 통일한 신라, 고구려를 계승한 발해②
2. 민족을 다시 통일한 고려
- 1. 고려의 건국으로 달라진 정치③
 - 2. 역경을 이겨 내며 꽃피운 고려 문화④

9. 다음은 신라 어느 마을에 붙은 가상의 모집 공고문이다. 이 공고문을 낸 사람에 대한 설명으로 옳지 않은 것은? [2점]


사람 구함

- 모집 대상 : 16~30세의 건장한 사람
- 모집 인원 : 〇〇〇명
- 선발 방법 : 면접
- 응시 장소 : 청해진
- 응시 자격 :
 - 해적과 맞서 싸울 무술 실력이 좋은 자
 - 뱃멀미를 안 하고 힘을 잘 쓰는 자
 - 배 만드는 기술을 가진 자
- ※ 우대 조건 : 당나라말이나 일본말에 능통한 자

무역왕 〇〇〇

- ① 원래 이름은 궁복이었다.
- ② 당에 건너가 무관으로 활동하였다.
- ③ 신라 화랑 출신으로 해적을 소탕하였다.
- ④ 중국과 일본을 오가는 국제 무역을 장악하였다.

10. 다음은 고려 시대 귀족의 방을 재현한 것이다. 이곳에 어울리지 않은 물건은? [2점]



- ① ㉠ - 벼루
- ② ㉡ - 서책
- ③ ㉢ - 청자 향로
- ④ ㉣ - 담뱃대

11. 준호는 고려의 우수한 문화재를 조사하여 다음과 같은 보고서를 만들었다. 보고서의 내용으로 옳지 않은 것은? [3점]

① **청자**
은은하면서도 맑고 투명한 푸른빛을 띠고 있으며, 선의 흐름이 부드러운 고려 청자이다.



② **직지심체요절**
금속 활자로 인쇄한 세계에서 가장 오래된 책으로, 뛰어난 인쇄술을 알 수 있다.



고려의 문화재

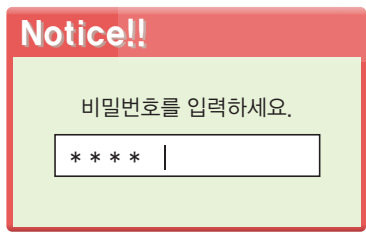
③ **현화사 7층 석탑**
개성에 있는 탑으로, 규모가 웅대하고 탑을 쌓은 솜씨가 세련되었다.



④ **감은사지 3층 석탑**
동해로 쳐들어오던 왜구를 부처님의 힘으로 막아 내기 위하여 세운 탑이다.



12. 재석이는 제시된 '힌트'를 이용하여 비밀번호를 찾으려고 한다. 에 들어갈 비밀번호로 올바른 것은? [3점]



〈 힌 트 〉

- 첫째 : 고조선의 조금법에는 “살인자는 즉시 사형에 처한다.”라는 항목이 있었다.
- 둘째 : 부여에 있는 정림사지 탑은 층으로 되어 있다.
- 셋째 : 고려는 부처의 힘으로 몽골의 침략을 막기 위하여 만대장경판을 만들었다.
- 넷째 : 북한은 남한을 무력으로 공산화하기 위해 1950년 월에 전쟁을 일으켰다.

- ① 6586
- ② 7589
- ③ 8456
- ④ 8586

13. 다음에서 고려 시대에 새롭게 나타난 모습으로 적절하지 않은 것은? [3점]

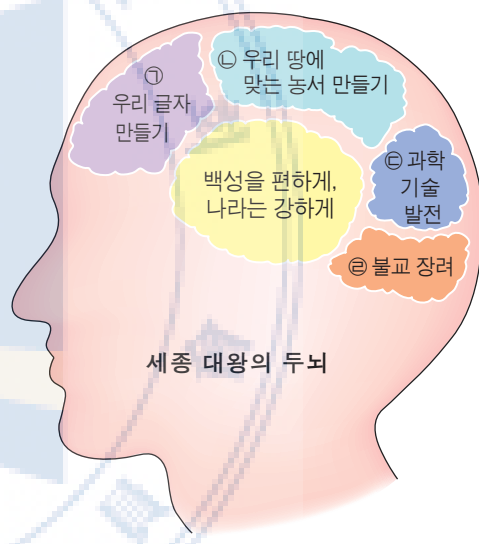
① 
과거를 통해 인재를 뽑기도 하였다.

② 
모내기법이 전국적으로 보급되어 농업 생산량이 크게 늘었다.

③ 
흥년 때 백성들을 굶주림에서 구하기 위해 의창을 두었다.

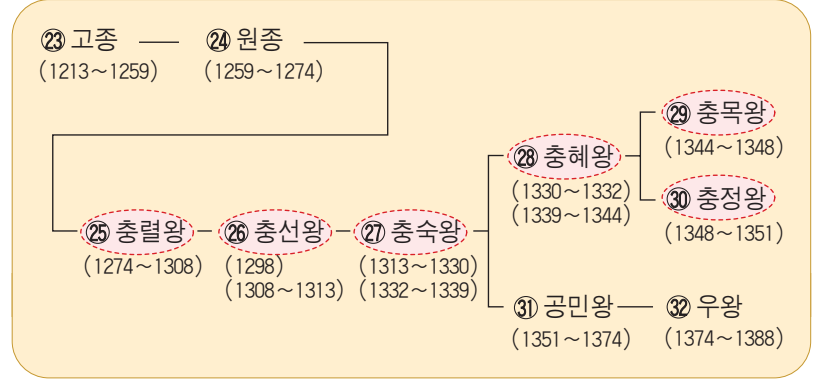
④ 
향교를 세워 유학의 정신을 널리 보급하고자 하였다.

14. 다음 그림은 세종 대왕의 업적을 뇌 구조도로 표현해 본 것이다. ㉠~㉣ 중에서 옳지 않은 것은? [3점]



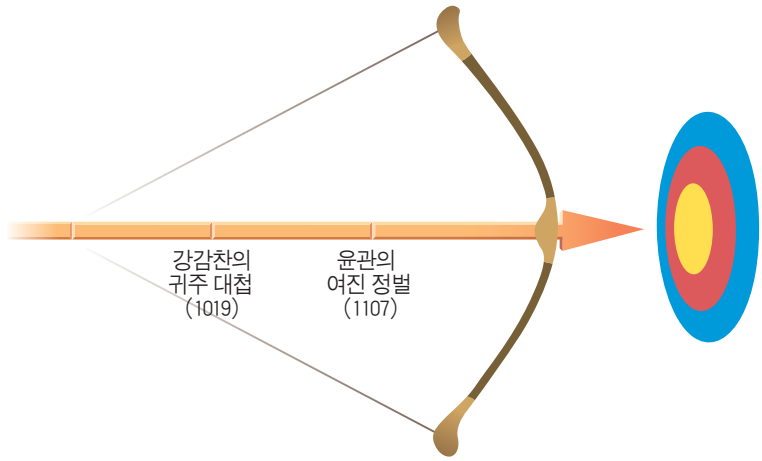
- ① ㉠
- ② ㉡
- ③ ㉢
- ④ ㉣

15. 다음은 고려 왕조 계보의 일부이다. 가 표시된 왕들이 있었던 시기의 일로 옳은 것은? [2점]



- ① 왕은 원의 공주를 왕비로 맞이하였다.
- ② 여진족을 몰아내고 4군과 6진을 설치하였다.
- ③ 왕이 원의 세력을 몰아내고 빼앗긴 땅을 되찾았다.
- ④ 몽골과 싸우기 위해 도읍을 개경에서 강화도로 옮겼다.

16. 다음은 어느 시대의 역사적 사건을 활쏘기 그림으로 나타낸 것이다. 화살이 향할 과녁으로 옳은 것은? [3점]



- ①
고구려
수의
침략 극복
- ②
신라
당의
위협 극복
- ③
고려
북방 민족의
위협 극복
- ④
조선
병자호란
극복

17. 조선 후기에 꽃피운 실학자들의 연구와 관련이 없는 것은? [2점]



18. 조선 시대 사람들의 자기 소개 내용이 당시 신분과 어울리지 않는 것은? [2점]

<p>①</p>  <ul style="list-style-type: none"> • 이름 : 이양반 • 하는 일 : 정5품 관리 • 취미 : 활쏘기 	<p>②</p>  <ul style="list-style-type: none"> • 이름 : 나목수 • 하는 일 : 대패질 • 취미 : 제기차기
<p>③</p>  <ul style="list-style-type: none"> • 이름 : 김농민 • 하는 일 : 농사짓기 • 취미 : 투호 	<p>④</p>  <ul style="list-style-type: none"> • 이름 : 박대장 • 하는 일 : 대장간에서 기구 제작 • 취미 : 씨름

19. 다음은 호준이가 수집한 우표이다. 이 우표에 그려져 있는 전쟁과 관련이 없는 역사적 사실은? [2점]



- ① 광재우 장군은 의병을 일으켜 왜군에 저항하였다.
- ② 권율 장군은 해주산성에서 많은 왜군을 무찔렀다.
- ③ 이종무 장군은 왜구의 본거지인 쓰시마 섬을 토벌하였다.
- ④ 이순신 장군은 한산도 앞바다에서 학익진 전법으로 일본군을 무찔렀다.

20. 유네스코가 선정한 인류 구전 및 무형 유산으로 옳지 않은 것은? [3점]



21. 다음 문화재 사진엽서의 □에 들어갈 비석 이름으로 옳은 것은? [3점]



- ① 삼전도비
- ② 진흥왕 순수비
- ③ 광개토 대왕릉비
- ④ 태종 무열왕비

22. 역사학자가 되고 싶은 진원이의 꿈은 북한의 유물과 유적을 보는 것이다. 북한 땅에서 진원이가 볼 수 있는 것을 <보기>에서 고른 것은? [3점]


< 보기 >

ㄱ. 

광개토 대왕릉비

ㄴ. 

장군총

ㄷ. 

선죽교

ㄹ. 

공민왕릉

- ① ㄱ, ㄷ ② ㄷ, ㄹ
 ③ ㄱ, ㄷ, ㄹ ④ ㄴ, ㄷ, ㄹ

23. 방학을 맞아 지하철을 타고 서울 지역 답사를 하였다. 다음에서 설명이 옳지 않은 것은? [3점]



- ① 광화문 - 바른 정치를 하자는 뜻에서 붙여진 이름으로, 경복궁 입구에 있다.
 ② 경복궁 - 조선 시대에 가장 먼저 세워진 궁궐로, 임진왜란 때 불탔으나 그 후에 다시 세웠다.
 ③ 동대문 - 한양을 드나드는 문으로, '예의를 중하게 여기는 민족'이라는 뜻에서 숭례문이라고 하였다.
 ④ 독립문 - 중국 사신을 맞이하기 위해 세운 영은문을 헐고, 자주 독립의 의지를 나타내기 위해 세운 문이다.

24. 다음 광고문의 에 들어갈 단어로 옳은 것은? [2점]

2009년 체험단을 모집합니다!



400여 년 전 일본과 조선의 평화를 다짐했던 그 길을 다시 찾아가는 행사에 참여할 분을 모집합니다. 이 행사는 과거 에도 막부의 요청을 받아 조선에서 파견한 사람들이 갔던 길을 탐방하는 프로그램입니다. 조선의 발전된 문화를 전파하고 일본과 참된 신의를 다지던 역사를 재현하고자 하오니 많은 참여를 부탁드립니다.

- ① 통신사 ② 수신사 ③ 영선사 ④ 조사 시찰단

25. 다음은 근대 문물이 도입되던 시기 우편 집배원 모습이다. 이 사람을 만나기 위해 타야 할 타임머신 버스 번호는? [3점]





버스	종점
1번	원산학사
2번	전환국
3번	박문국
4번	우정국

- ① 1번 ② 2번 ③ 3번 ④ 4번

26. 효신이는 우리나라와 일본 사이에서 일어났던 역사적인 전투나 사건에 대해서 알아보았다. 다음에서 효신이가 조사할 문화재나 사적으로 적절하지 않은 것은? [3점]

① 

명성 황후 추모비

② 

수어장대

③ 

초지진

④ 

진주성(촉석루)

27. 나라를 위하여 공로를 세운 위인에게 상장을 수여하려고 한다. 다음에서 적절하지 않은 것은? [3점]

- ① **한글 사랑상**
주시경
우리 말과 글을 지키는 데 커다란 역할을 하였으므로 이 상장을 수여함.
- ② **과학 공헌상**
장영실
측우기를 발명하여 농업 발전에 공헌하였으므로 이 상장을 수여함.
- ③ **바른 정치상**
황희
시무 28조를 만들어 바른 정치의 모범을 보였으므로 이 상장을 수여함.
- ④ **평화 담판상**
서희
거란과의 담판으로 전쟁을 하지 않고 스스로 물러나게 하였으므로 이 상장을 수여함.

28. 다음 역사 신문에서 보도한 사건을 계기로 맺어진 조약의 내용이 아닌 것은? [3점]

역사 신문

일본 군함 운요호 강화 해협 불법 침범

최근 남해안과 동해안을 불법으로 탐측하면서 무력시위를 벌이던 일본 군함 운요호가 오늘 오전 강화 해협을 침범하였다. 우리 군대가 이를 막기 위해 대포를 쏘자, 운요호는 기다렸다는 듯이 함포 사격을 해 왔다. 또, 일본군은 영종도에 상륙하여 죄 없는 양민들을 죽이고 관청을 불태우는 만행을 저질렀다. 이에 따라 조정은 긴급히 피해 상황을 보고받고 대책을 수립 중에 있다.

-1875년 9월 20일-

- ① 조선은 부산 이외의 두 항구를 추가로 개항한다.
- ② 조선 해안을 일본 항해자가 자유로이 측량하도록 허가한다.
- ③ 한국 정부는 일본 정부를 통하지 않고는 외국과 조약을 맺지 못한다.
- ④ 조선의 항구에 머무르는 동안 죄를 지은 일본 사람은 일본의 법에 따라 일본 관리가 심판한다.

29. 형우는 문화재 안내 자료를 만들려고 한다. 제시된 이야기에 어울리는 문화재 사진으로 옳은 것은? [2점]

사진 붙이는 곳

• 탑에 얽힌 이야기

이 탑에는 백제의 석공 아사달을 찾아 신라의 서라벌로 온 아사녀가 남편을 만나 보지 못한 채 연못에 몸을 던져야 했던 슬픈 전설이 서려 있다. 그림자가 비치지 않는 탑이라는 뜻에서 '무영탑'이라 불리기도 한다.

- ①  미륵사지 석탑
- ②  불국사 3층 석탑
- ③  불국사 다보탑
- ④  경천사 10층 석탑

30. 다음 연극 대본과 관련이 깊은 역사적 사건은? [2점]

전봉준 : (자리에 앉으며) 만석보를 만들 때는 수세(물세)를 걷지 않겠다고 하셨는데, 이번 추수에 걷는 것은 어찌 된 일이오?

조병갑 : 아니, 나라에 낼 세금을 못 내겠다는 것이냐?

전봉준 : 사또가 거두는 세금을 못 내겠다는 것이오.

마을 사람 : (항의하듯 소리친다) 수세를 없애시오!


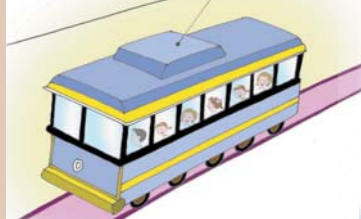

조병갑 : 이런 것으로 민심을 어지럽히고 폭도를 끌고 와서 관아를 소란케 한 벌을 받고 싶으냐?

전봉준 : 사또, 저들은 폭도가 아니라 굶주린 백성들이오.

- ① 갑신정변
- ② 동학 농민 운동
- ③ 갑오개혁
- ④ 명성 황후 시해 사건

31. 개항 이후 새롭게 등장한 근대 문물에 대한 신문 광고로 옳지 않은 것은? [3점]

○○ 신문

① 친구의 목소리가 듣고 싶다면 덕률퐁! 	② 일찍 일어나고 싶다면 닭 울음 대신 자명종! 
③ 전차 단체 유람 특별 할인! 	④ 밤에도 대낮같이 전깃불! 

32. 다음은 고종이 내린 가상의 비밀 교서 일부이다. 역사적 사실에 비추어 옳지 않은 것은? [2점]

그대들은 보아라.

을사년에 나라가 흥흥할 때, 결국 ㉠ 일본의 극악무도한 무리들은 집을 위협해 강제로 조약을 맺게 하였다. ㉡ 우리의 자주 외교권을 빼앗긴 을사년의 사건을 막지 못한 수치스러움은 모두 짐의 무력함에서 나온 것이다. 시름에 잠 못 이루던 차, ㉢ 파리에서 세계 각국 대표들이 참석하는 평화 회의가 열린다는 소식을 들었다. 짐이 신뢰하는 그대들 ㉣ 이준, 이위중, 이상설을 보내 풍전등화와 같은 우리의 실상을 알리고 세계 사람들의 도움을 받고자 한다. 그대들은 어서 달려가 우리의 처지를 세계에 알리고 일본의 야욕으로부터 벗어날 수 있는 길을 만들라.

- 1907년 0월 0일 -

- ① ㉠ ② ㉡ ③ ㉢ ④ ㉣

33. 사회 숙제로 역사적인 사건과 관련된 기념물들을 스크랩한 것이다. 사건이 일어난 순서대로 배열한 것은? [2점]



㉠	㉡	㉢	㉣
			
행주 대첩 기념비	척화비	북한산 진흥왕 순수비	광주 학생 항일 운동 기념탑

- ① ㉠ → ㉡ → ㉢ → ㉣ ② ㉡ → ㉢ → ㉣ → ㉠
 ③ ㉢ → ㉠ → ㉡ → ㉣ ④ ㉢ → ㉡ → ㉠ → ㉣

34. 사회 시간에 역사 인물 카드를 완성하려고 한다. □에 들어갈 내용으로 적절한 것은? [2점]

★★★★★★ 	★★★★★★ • 이름 : 안중근 • 생년월일 : 1879년 2월 2일 • 활약 : <input type="text"/> <input type="text"/> <input type="text"/>
---	---

- ① 만주 청산리 전투에서 일본군을 물리쳤다.
 ② 상하이 흥커우 공원에서 일본 요인들에게 폭탄을 던졌다.
 ③ 상하이 대한민국 임시 정부의 초대 대통령으로 추대되었다.
 ④ 하얼빈 역에서 한국 침략의 원흉 이토 히로부미를 사살하였다.

35. 다음은 텔레비전 일일 편성표의 일부분이다. 각 프로그램이 다루고 있는 사건을 시대순으로 바르게 나열한 것은? [3점]

		MBS 채널
오전	9 : 00	㉠ 5분 정보마당 〈조상의 지혜! 조선 사람들의 장독대〉
	11 : 00	㉡ 특별 대담 〈일본군 '위안부' 문제, 어떻게 해결할 것인가?〉
오후	7 : 00	㉢ 기획 드라마 〈김유신〉
	10 : 00	㉣ 특집 다큐멘터리 〈광개토 대왕의 발자취를 찾아서〉

- ① ㉠ - ㉡ - ㉢ - ㉣ ② ㉡ - ㉢ - ㉣ - ㉠
 ③ ㉢ - ㉣ - ㉠ - ㉡ ④ ㉣ - ㉢ - ㉠ - ㉡

36. 일제 강점기 우리 민족이 전개한 독립운동에 대한 설명으로 옳지 않은 것은? [2점]

- ① 독립 협회를 설립하여 자주 독립 정신을 일깨우기 위해 노력하였습니다.
- ② 민족의 산업을 발전시키고 민족 자본을 육성하기 위해 노력하였습니다.
- ③ 나라 안팎의 독립운동 단체를 통합하여 대한민국 임시 정부를 세웠습니다.
- ④ 만주와 연해주에서는 수많은 독립군 부대가 무장 독립운동을 전개하였습니다.

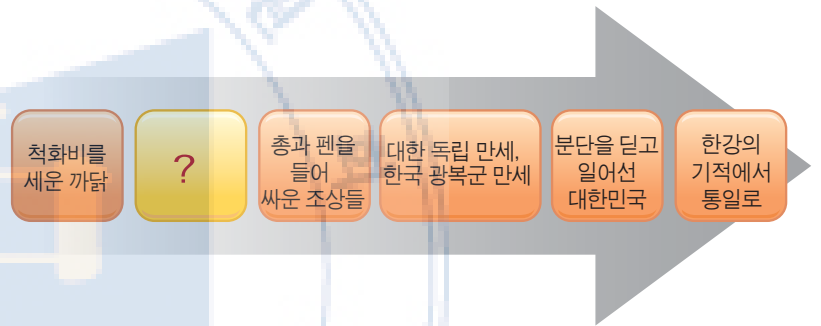
38. 3·1 운동의 전개과정을 UCC로 만들려고 한다. 들어갈 장면으로 적절하지 않은 것은? [2점]

(가) (나) (다) (라)

월슨의 민족 자결주의 발표 2·8 독립 선언서 낭독 독립 선언서 낭독 대한민국 정부 수립 선포

- ① (가) ② (나) ③ (다) ④ (라)

39. 다음은 6학년 사회 교과서의 차례를 나타낸 그림이다. 다음 빈칸에 들어갈 내용으로 적절한 것은? [3점]



- ① 두 차례의 전쟁 극복
- ② 민주 시민이 승리하던 날
- ③ 대한 제국을 선포한 뜻은
- ④ 유교를 정치의 근본으로 삼은 조선

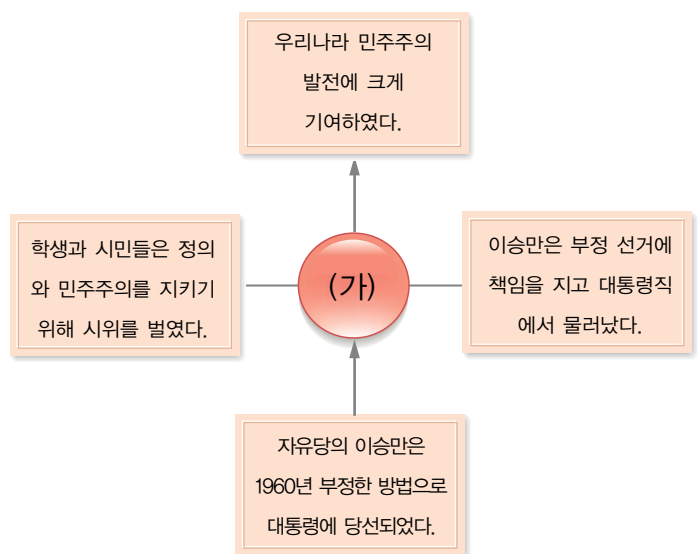
37. (가)에 들어갈 이 글의 제목으로 알맞은 것은? [2점]

(가)

일본에서 만들어진 역사 교과서 중에는 잘못된 내용을 일부러 넣은 것이 있다. 그 예로, 일제 강점기에 일본은 조선을 위해서 철도와 도로를 놓고, 배가 자유롭게 드나들 수 있는 항구 시설을 만들어 주었다는 주장이 있다. 하지만, 이런 사실들은 우리나라의 발전을 위해 만든 것이 아니었다. 일본은 우리나라에서 나온 식량과 물건들을 좀 더 빠르고 쉽게 일본으로 가져가기 위해 만든 것이었다.

- ① 일본의 역사 왜곡 바로 알기
- ② 일제 덕분에 발전한 우리나라
- ③ 우리나라와 일본의 경제 성장
- ④ 우리나라와 일본의 평화로운 미래

40. 광복 이후 우리나라는 민주주의를 발전시키기 위해 많은 노력을 해 왔다. (가)에 들어갈 역사적 사건으로 옳은 것은? [2점]



- ① 4·19 혁명 ② 5·16 군사 정변
- ③ 5·18 민주화 운동 ④ 6월 민주 항쟁