

1. 다음 중 빈 칸에 들어갈 알맞은 수는 무엇입니까?.....( )

10개씩 7묶음은  이라고 합니다.

- ① 50    ② 60    ③ 70    ④ 80    ⑤ 90

2. 다음을 숫자로 바르게 나타낸 것은 어느 것입니까?.....( )

삼십육, 서른여섯

- ① 16    ② 26    ③ 36    ④ 46    ⑤ 56

3. 다음 <보기>의 수 중에서 십의 자리값이 가장 작은 것을 쓰시오.

<보기>

77    48    29    86    56    37

( )

4. 다음 중 빈 칸에 들어갈 알맞은 수는 무엇입니까?.....( )

32 -  - 34

- ① 30    ② 31    ③ 32    ④ 33    ⑤ 34

5. 다음 수 배열표에서 가로로 색칠한 수들에는 어떤 규칙이 있습니까?.....( )

42	43	44	45	46	47	48
52	53	54	55	56	57	58
62	63	64	65	66	67	68
72	73	74	75	76	77	78

- ① 1씩 커집니다.                      ② 2씩 커집니다.  
 ③ 5씩 커집니다.                      ④ 10씩 커집니다.  
 ⑤ 100씩 커집니다.

6. 수정이는 모형 동전을 10원짜리 6개, 1원짜리 8개를 가지고 있습니다. 수진이는 모형 동전을 10원짜리 5개, 1원짜리 19개를 가지고 있습니다. 누가 모형 동전을 더 많이 가지고 있는지 풀이 과정과 답을 구하십시오.

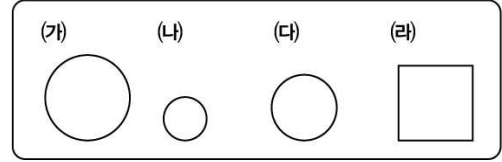
\_\_\_\_\_

\_\_\_\_\_

\_\_\_\_\_

답: \_\_\_\_\_

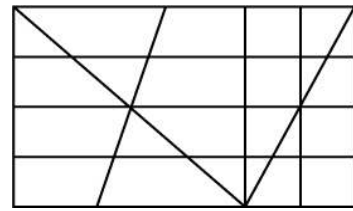
7. 다음 중 동그라미 모양이 아닌 것은 어느 것입니까?



( )

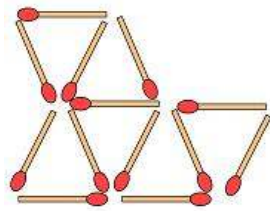
8. 다음 그림을 선을 따라 자르면 한 칸으로 된 세모 모양은 모두 몇 개가 됩니까?

.....( )



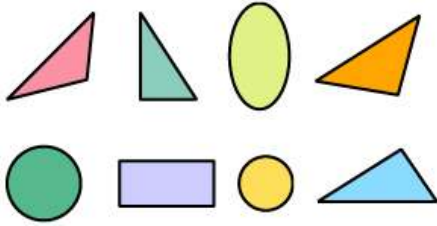
- ① 5개    ② 6개    ③ 7개    ④ 8개    ⑤ 9개

9. 다음 모양을 만드는 데는 몇 개의 성냥개비가 필요합니까?.....( )




- ① 13개                      ② 14개                      ③ 15개  
 ④ 16개                      ⑤ 17개

10. 다음에서 네모 모양은 모두 몇 개입니까?



( )개

11. 다음은 일정한 규칙으로 배열한 것입니다. 빈 칸에 올 그림으로 알맞은 것은 어느 것입니까?.....( )



- ①
- ②
- ③
- ④
- ⑤

12. 민영이는 빵이 10개 있습니다. 5개를 동생에게 주었다면, 민영이에게 남아있는 빵은 모두 몇 개인지 쓰시오.

( )개

13. 우리 모둠에서 책 10권을 모아 고아원에 보내려고 합니다. 지금까지 7권을 모았다면 몇 권을 더 모아야 합니까?.....( )

- ① 2권    ② 3권    ③ 4권    ④ 5권    ⑤ 6권

14. 서로 다른 두 수가 있습니다. 이 두 수를 더 하였더니 10이 되었고, 큰 수에서 작은 수를 빼었더니 6이 되었습니다. 두 수는 각각 어떤 수인지 쓰시오.

( , )

15. 다음 중  $4+5+5$ 와 값이 같은 것은 어느 것입니까?.....( )

- ①  $7+3+4$     ②  $6+2+8$     ③  $3+4+6$
- ④  $7+3+5$     ⑤  $6+4+7$

16. 미술 시간에 동우는 색종이 10장 중에서 5장을 사용했고, 정희는 색종이 10장 중에서 4장을 사용했습니다. 두 사람이 사용하고 남은 색종이는 모두 몇 장인지 쓰시오.

( )장

17. 다음을 보고,  $\blacksquare - \blacklozenge$ 의 값은 얼마인지 풀이 과정과 답을 구하시오.

$$5 + \blacksquare = 10, 10 - \blacklozenge = 7$$

\_\_\_\_\_

\_\_\_\_\_

답: \_\_\_\_\_

18. 과자 10개가 있습니다. 형이 2개를 먹고, 동생이 3개를 먹었습니다. 남은 과자는 모두 몇 개입니까?.....( )

- ① 1개    ② 2개    ③ 3개    ④ 4개    ⑤ 5개

19. 냉장고에 사과가 3개 남아 있었습니다. 어머니께서 사과를 20개 더 사 오셨습니다. 사과는 모두 몇 개입니까?

( )개

20. 다음의 서로 다른 숫자 카드 2장을 골라 두 자리 수를 만들고, 1장을 골라 한 자리 수를 만들었습니다. 두 수의 합이 가장 크게 될 경우의 값은 얼마인지 풀이 과정과 답을 구하시오. (단, 한 자리 수를 만들 때는 중복해서 사용할 수 있습니다.)

$$3 \quad 4 \quad 5 \quad 7$$

\_\_\_\_\_

\_\_\_\_\_



답: \_\_\_\_\_

<정답>

- 1: ③  
 2: ③  
 3: 29  
 4: ④  
 5: ①  
 6: 수정-(10원짜리 6개)+(1원짜리 8개)=68(원)  
 수진-(10원짜리 5개)+(1원짜리 19개)=69(원)  
 따라서, 수진이 1원 더 많이 가지고 있습니다.  
 답: 수진  
 7: (라)  
 8: ④  
 9: ①  
 10: 1(개)  
 11: ④  
 12: 5(개)  
 13: ②  
 14: 2, 8  
 15: ①  
 16: 11(장)  
 17:  $5 + \blacksquare = 10$ ,  $\blacksquare = 5$   
 $10 - \blacklozenge = 7$ ,  $\blacklozenge = 3$   
 따라서,  $\blacksquare - \blacklozenge = 5 - 3 = 2$   
 답: 2  
 18: ⑤  
 19: 23(개)  
 20: 카드를 2장 골라 만들 수 있는 수 :  
 34, 35, 37, 43, 45, 47, 53, 54, 57, 73,  
 74, 75  
 두 수의 합이 가장 크게 되는 경우는 (가장  
 큰 두 자리 수)+(가장 큰 한 자리 수)이므  
 로, 따라서,  $75 + 7 = 82$   
 답: 82

특별한 일제특강  
**에듀모아 1위**

온라인 초등 교육 1위 에듀모아가 드리는  
**초등학생 교육비 절약 노하우**

 + 

**On-line**                      **Off-line**

“이제 사교육비 절약해 보세요~”  
 온라인 학습과 수학 계산력 학습지 까지  
 초등학생 매월 만원이면 학습 준비 끝!

엄마!!  
 에듀모아  
 하면 되요~

[www.edumoa.com](http://www.edumoa.com) ☎ 1588-9997

**01** 스스로 공부하는 습관을 길러줍니다.  
**효과 있는 초등 온라인 학습**

다들 잘  
 교육 컨텐츠  
 Go! Go!

일일학습      인터넷 강의실      교과서 요점정리  
 한자나라      전국모의고사      숙제도우미

**02** 비싼 학습지는 이제 그만!  
**매월 수학 계산력 학습지 무료 제공**

에듀모아 A B C D E F 학습지

초등 수학에서 가장 기초가 되는 계산력을 개념과 원리를 깨우치며  
 빠르게 기를 수 있도록 구성하여 수학의 모든 영역에서 자신감을 준 학습지

#3차, #4차  
 수학능력  
 UP UP!