

# 중간 학력 평가 예상 문제

( ) 초등학교 2학년 ( )반 ( )번 이름 ( )

1. 곱이 가장 큰 것부터 차례대로 바르게 나열하시오.

㉠  $2 \times 8$    ㉡  $5 \times 5$    ㉢  $2 \times 4$

( )

2. 한 사람에게 연필을 8자루씩 나누어 주었더니 6명에게 주고 6개가 남았습니다. 처음에 있었던 연필은 모두 몇 자루입니까?

.....( )

- ① 50자루   ② 52자루   ③ 54자루
- ④ 56자루   ⑤ 58자루

3. □ 안에 알맞은 수는 어느 것입니까?

.....( )

★ ★ ★ ★ ★ ★ ★  
 $1 \times 7 = \square$

- ① 3   ② 4   ③ 5   ④ 6   ⑤ 7

4. 다음 ㉠과 ㉡의 곱을 구하시오.

$6 \times \text{㉠} = 0$   
 $\text{㉡} \times 6 = 48$

( )

5. 철수네는 9마리의 닭을 기르고 있습니다. 철수네가 기르고 있는 닭의 다리는 모두 몇 개입니까?

( )개

6. 다음 덧셈을 하시오.

$\begin{array}{r} 514 \\ + 424 \\ \hline \end{array}$

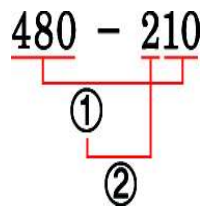
7. 수완이의 아버지는 어부입니다. 오늘 아버지는 고등어를 240마리 잡았고, 뽕치를 339마리 잡았습니다. 아버지가 오늘 잡은 고등어와 뽕치는 모두 몇 마리인지 쓰시오.

( )마리

8. 밤을 영우는 230개를 주웠고, 승민이는 영우보다 115개를 더 많이 주웠습니다. 두 사람이 주운 밤은 모두 몇 개입니까?

( )개

9. 왼쪽과 같은 순서대로 계산하여 □ 안에 알맞은 수를 써 넣으시오.



①  $480 - 10 = \square$   
②  $\square - 200 = \square$

10. 다음 중 가장 긴 것은 어느 것입니까?

.....( )

- ① 388cm인 나무의 높이
- ② 3m 47cm인 건물의 높이
- ③ 452cm인 철판의 길이
- ④ 4m 23cm인 승용차의 길이
- ⑤ 449cm인 끈의 길이

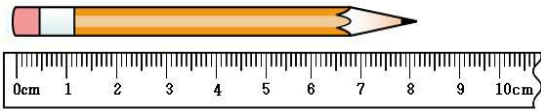
11. 수아의 한 뼀은 10cm입니다. 수아가 철판의 길이를 손으로 재었더니 20뼀이 조금 못 되었습니다. 철판의 길이는 약 몇 cm입니까?

약( ) cm

12. 다음 설명 중 바르지 못한 것은 어느 것입니까?.....( )

- ① 4m 50cm를 4미터 50센티미터라고 읽습니다.
- ② 125cm=1m 25cm
- ③ 100cm를 1m라고 합니다.
- ④ 208cm는 2m보다 80cm 더 길니다.
- ⑤ 185cm는 1m85cm라고 씁니다.

13. 연필의 길이를 어렵하여 보시오.



→ 연필의 길이는  cm 조금 더 됩니다.

14. 다음 중 길이를 1m짜리 막대로 어렵하기 어려운 것은 어느 것입니까?

- .....( )
- ① 방문의 길이      ② 냉장고의 길이
  - ③ 교실의 길이      ④ 수학책의 길이
  - ⑤ 칠판의 가로 길이

15. 다음 빈 칸에 들어갈 수는 얼마입니까?  
.....( )

$$6m\ 18cm + \boxed{\phantom{000}} = 10m\ 55cm$$

- ① 4m 27cm      ② 4m 37cm      ③ 4m 47cm
- ④ 3m 27cm      ⑤ 3m 37cm

16. 기영이는 철사를 1m 60cm 가지고 있고, 호영이는 2m 25cm 가지고 있습니다. 두 사람이 가지고 있는 철사는 모두 몇 m 몇 cm입니까?

(      )m (      )cm

17. 3, 5, 0, 6의 숫자를 한 번씩만 사용하여 세 자리의 수를 만들 때, 가장 큰 수와 가장 작은 수의 합은 어느 것입니까?

- .....( )
- ① 936    ② 958    ③ 966    ④ 982    ⑤ 999

18. □ 안에 알맞은 수를 써 넣으시오.

$$660 + 270 = 660 + \boxed{\phantom{00}} + 70$$

$$= \boxed{\phantom{000}} + 70$$

$$= \boxed{\phantom{000}}$$

19. 현주, 슬기, 현이가 색종이를 가지고 있습니다. 현주는 252장을 가지고 있습니다. 현주는 슬기보다 132장 더 가지고 있으며, 현이보다 124장 적게 가지고 있습니다. 슬기와 현이가 가지고 있는 색종이는 합하여 모두 몇 장인지 풀이과정과 답을 구하십시오.

\_\_\_\_\_

\_\_\_\_\_

\_\_\_\_\_

답: \_\_\_\_\_ 장

20. 어떤 수에서 124를 빼야 할 것을 잘못하여 더하였더니 379가 되었습니다. 바르게 계산한 값은 얼마인지 풀이과정과 답을 구하십시오.

\_\_\_\_\_

\_\_\_\_\_

\_\_\_\_\_


답: \_\_\_\_\_

정답

- 【1】 ㉠, ㉡, ㉢
- 【2】 ③
- 【3】 ⑤
- 【4】 0
- 【5】 18(개)
- 【6】 938
- 【7】 579(마리)
- 【8】 575(개)
- 【9】 ① 470, ② 470, 270
- 【10】 ③
- 【11】 200(cm)
- 【12】 ④
- 【13】 8
- 【14】 ④
- 【15】 ②
- 【16】 3m, 85cm
- 【17】 ②
- 【18】 (1) 200 (2) 860 (3) 930
- 【19】 496  
 슬기 :  $252-132=120$ (장)  
 현이 :  $252+124=376$ (장)  
 따라서, 슬기와 현이가 가지고 있는 책  
 종이  $\rightarrow 120+376=496$ (장)
- 【20】  $\square+124=379$ ,  $\square=255$ 이므로  
 $255-124=131$ 입니다.


특별한 일제특강 **에듀모아 1위**

온라인 초등 교육 1위 에듀모아가 드리는  
**초등학생 교육비 절약 노하우**



**On-line**

+




**Off-line**

“이제 사교육비 절약해 보세요~”

온라인 학습과 수학 계산력 학습지 까지  
 초등학생 매월 만원이면 학습 준비 끝!

엄마!!  
 에듀모아  
 하시면 돼요~









**www.edumoa.com ☎ 1588-9997**

---

**01** 스스로 공부하는 습관을 길러줍니다.  
 효과 있는 **초등 온라인 학습**


다들 잘난  
교과 컨텐츠  
Go! Go!



 일일학습	 인터넷 강의실	 교과서 요점정리
 한자나라	 전국모의고사	 속제도우미

---

**02** 비싼 학습지는 이제 그만!  
 매월 수학 계산력 학습지 무료 제공





#3학년  
수학  
계산력  
UP UP!

초등 수학에서 가장 기초가 되는 계산력을 개념과 원리를 깨우치며  
 빠르게 기를 수 있도록 구성되어 수학의 모든 영역에서 자신감을 준 학습지