

( ) 초등학교 1학년 이름 :

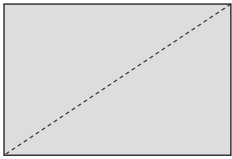
1 □ 안에 알맞은 수를 써 넣으시오.

83은 10개씩 □ 묶음과 낱개 □ 개입니다.

2 두 수 사이에 >, <를 알맞게 써 넣으시오.

97 ○ 95

3 색종이를 다음과 같이 자르면 어떤 모양이 됩니까?



( ) 모양

4 다음을 보고, 빈 곳에 알맞은 것을 찾으시오.

..... ( )



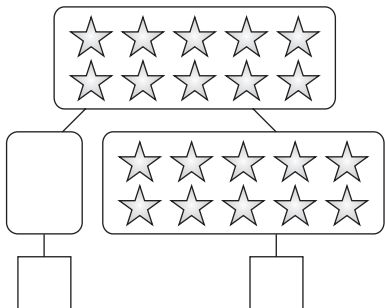
① ○

② ▲

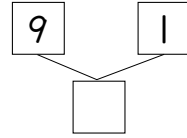
③ ●

④ ▼

5 빈 곳에 알맞은 수를 써 넣으시오.



6 □ 안에 알맞은 수를 써 넣으시오.



7 □ 안에 알맞은 수를 써 넣으시오.

$$10 - \square = 0$$

8 시계가 가리키는 시각은 몇 시 몇 분입니까?



( )시 ( )분

9 시각을 바르게 나타낸 것은 어느 것입니까?


..... ( )

11시


①



②



③



④



10 빈 곳에 알맞은 수를 써 넣으시오.

(10 작은 수) □ — 55 — □ (10 큰 수)





# 학기말 학력 평가 (유사문제)

## 정답 및 풀이

### 정답

1. 8, 3      2. >      3. 세모
4. ②      5. 0, 10      6. 10
7. 10      8. 4, 30      9. ②
10. 45, 65      11. ③      12. 14
13. 72는 61보다 큼니다.      14. ③
15. 79      16. ②      17. 1, 14
18. 8, 10, 9      19. 5, 6, 7, 8, 9
20. 15

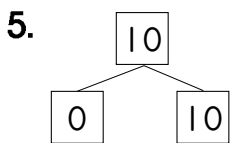
1. 83  $\Rightarrow$   $\left[ \begin{array}{l} 10\text{개씩 } 8\text{묶음} \\ \text{남개 } 3\text{개} \end{array} \right.$

2. 10개씩 묶음의 수가 같으므로 남개의 수의 크기를 비교합니다.

$$\begin{array}{ccc} 97 & > & 95 \\ \left[ \begin{array}{ccc} 7 & > & 5 \end{array} \right] & & \end{array}$$

3. 점선대로 자르면 세모 모양이 2개가 됩니다.

4. 반복되는 규칙은 ▼▲●●입니다.



7.  $\boxed{\bigcirc \bigcirc \bigcirc \bigcirc \bigcirc \bigcirc \bigcirc \bigcirc \bigcirc \bigcirc}$


○를 10개 그린 다음, 남는 ○의 수가 없도록 모두 /을 그으면 /을 그은 ○의 수는 10입니다.

8. 긴 바늘은 6을 가리키고 짧은 바늘은 4와 5 사이를 가리키므로 4시 30분입니다.

9. 긴 바늘이 12를, 짧은 바늘이 11을 가리키면 11시입니다.

10. 55보다 10 작은 수는 10개씩 묶음의 수가 1 작은 수입니다.

55보다 10 큰 수는 10개씩 묶음의 수가 1 큰 수입니다.



11. 시계 방향으로 한 칸씩 이동하면서 점을 찍었습니다.

$$\begin{array}{c} 9 - 1 + 6 = 14 \\ \begin{array}{c} \boxed{8} \quad \boxed{14} \\ \quad \quad \quad \uparrow \end{array} \end{array}$$

14. ①  $1+9=10$       ②  $3+7=10$   
③  $4+5=9$       ④  $5+5=10$

$$\begin{array}{r} 15. \quad 40 \\ + 39 \\ \hline 79 \end{array}$$

17. 9에 1을 더하면 10이므로 5를 1과 4로 가르기하여 9에 1을 먼저 더한 후 4를 더합니다.

18. 18에서 8을 먼저 뺀 다음, 나머지 1을 뺍니다.

20.  $7+8=15(\text{개})$