

( ) 초등 학교 1학년 이름 :

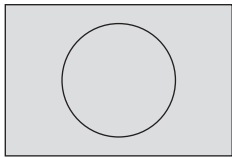
1 ☐ 안에 알맞은 수를 써 넣으시오.

98은 10개씩 ☐ 묶음과 낱개 ☐ 개입니다.

2 두 수 사이에  $>$ ,  $<$ 를 알맞게 써 넣으시오.

79 ○ 90

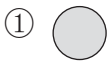
3 색종이를 다음과 같이 자르면 어떤 모양이 됩니까?



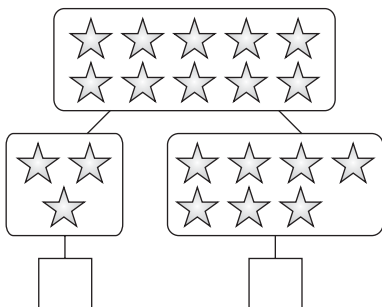
( ) 모양

4 다음을 보고, 빈 곳에 알맞은 것을 찾으시오.

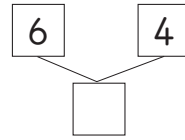
..... ( )



5 빈 곳에 알맞은 수를 써 넣으시오.




6 ☐ 안에 알맞은 수를 써 넣으시오.



7 ☐ 안에 알맞은 수를 써 넣으시오.

$$10 - \square = 8$$

8 시계가 가리키는 시각은 몇 시 몇 분입니까?







( )시 ( )분

9 시각을 바르게 나타낸 것은 어느 것입니까?

..... ( )

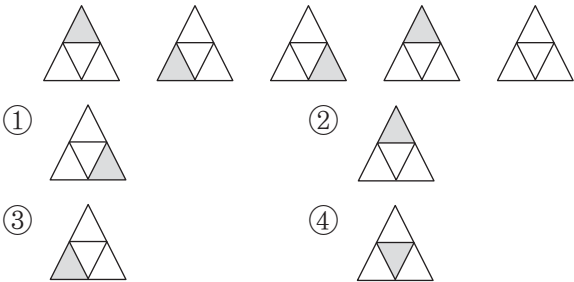
9시



10 빈 곳에 알맞은 수를 써 넣으시오.

(10 작은 수) ☐ — 60 — (10 큰 수) ☐

11 규칙에 맞게 색을 칠한 것은 어느 것입니까?  
..... ( )



12 다음을 계산하시오.  
 $9-4+5$

13 다음을 읽어 보시오.

72<81

( )

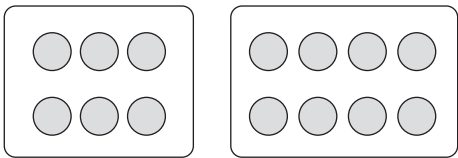
14 두 수의 합이 10이 되는 것은 어느 것입니까?  
..... ( )

- ① (1, 9)
- ② (2, 7)
- ③ (4, 5)
- ④ (6, 5)

15 다음을 계산하시오.

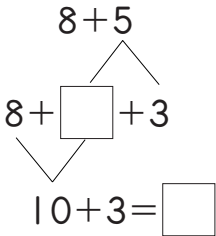
$$\begin{array}{r} 22 \\ + 37 \\ \hline \end{array}$$

16 그림을 보고, 모두 몇인지 알아보는 식은 어느 것  
입니까? ..... ( )

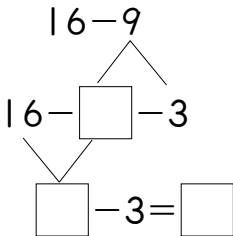


- ①  $6+7=13$
- ②  $6+8=14$
- ③  $6+9=15$
- ④  $8+8=16$

17 □ 안에 알맞은 수를 써 넣으시오.



18 □ 안에 들어갈 수를 써 넣으시오.



19 □ 안에 들어갈 수 있는 숫자를 모두 구하시오.

78 < □5

( )

20 참외가 8개, 자두가 9개 있습니다. 참외와 자두  
는 모두 몇 개입니까?

( )개