

( ) 초등 학교 1학년 이름 :

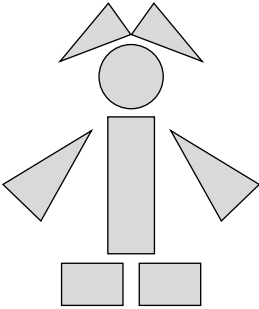
1 □ 안에 알맞은 수를 써 넣으시오.

10개씩 □ 묶음과 낱개 □ 개는 90입니다.

2 빈 곳에 알맞은 수를 써 넣으시오.

79 — □ — 81

3 그림에는 세모 모양이 네모 모양보다 몇 개 더 많습니까?



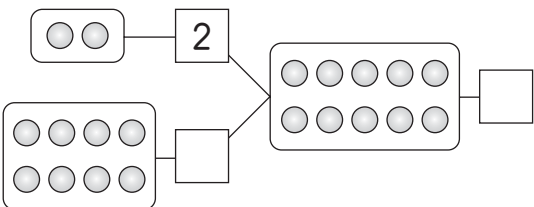
( ) 개

4 □ 안에 알맞은 모양을 쓰시오.

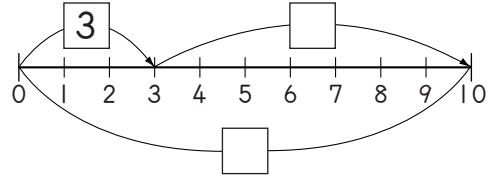


( ) 모양

5 빈 곳에 알맞은 수를 써 넣으시오.



6 □ 안에 알맞은 수를 써 넣으시오.



7 □ 안의 수가 큰 순서대로 기호를 쓰시오.


- ㉠  $10 - \square = 7$   
㉡  $8 + \square = 10$   
㉢  $10 - \square = 10$

( )

8 다음을 보고, □ 안에 알맞은 수를 써 넣으시오.

숙제 시작

숙제 끝



래원이는 숙제를 □ 시 □ 분에 시작하여  
□ 시에 끝마쳤습니다.

9 수지가 시계를 보니 11시 30분이었습니다. 짧은 바늘이 가리키고 있는 곳은 어느 것입니까?

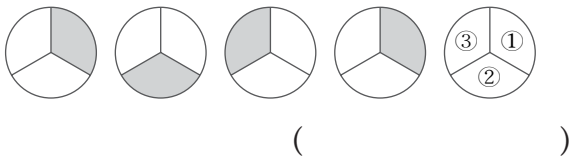
..... ( )

- ① 11                      ② 11과 12 사이  
③ 12                      ④ 10과 11 사이

10 빈 곳에 알맞은 수를 써 넣으시오.

(10 작은 수)                      (10 큰 수)  
62 — □ — 82

11 규칙에 맞게 색칠해야 하는 곳은 어디인지 번호를 쓰시오.



12 □ 안에 알맞은 숫자를 써 넣으시오.

$$\begin{array}{r} \square \square 2 \\ + \quad \square \\ \hline 4 \quad 7 \end{array}$$

13 유민이는 색종이 15장 중에서 7장으로 비행기를 만들고 4장으로 꽃을 만들었습니다. 남은 색종이는 몇 장입니까?  
(                      )장

14 두 수의 합이 가장 큰 것은 어느 것입니까?  
..... (                      )

① 2+9                      ② 6+9  
③ 6+8                      ④ 5+7

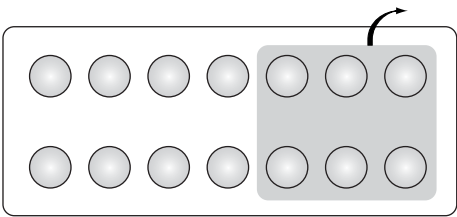
15 ○ 안에 >, =, <를 알맞게 써 넣으시오.

12+36

○

78-36

16 그림을 보고, 알맞은 식을 만드시오.



17 □ 안에 알맞은 수를 써 넣어 세 수의 합이 10이 되도록 하시오.

7+1+□=10

18 □ 안에 알맞은 수를 써 넣으시오.


8-5+□=5

19 ㉠에 알맞은 숫자를 모두 구하시오.

95 < □㉠

(                      )

20 사과가 9개 있습니다. 그 중 몇 개를 먹었더니 2개가 남았습니다. 몇 개의 사과를 먹었습니까?  
(                      )개



# 학기말 학력 평가(심화문제)

정답 및 풀이

## 정답

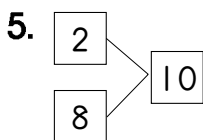
- |              |                |          |
|--------------|----------------|----------|
| 1. 9, 0      | 2. 80          | 3. 1     |
| 4. 네모        | 5. 8, 10       | 6. 7, 10 |
| 7. ㉠, ㉡, ㉢   | 8. 3, 30, 5    | 9. ㉡     |
| 10. 72       | 11. ㉡          | 12. 4, 5 |
| 13. 4        | 14. ㉡          | 15. >    |
| 16. $14-6=8$ | 17. 2          |          |
| 18. 2        | 19. 6, 7, 8, 9 | 20. 7    |

1. 90  $\Rightarrow$   $\left\{ \begin{array}{l} 10\text{개씩 } 9\text{묶음} \\ \text{나눠 } 0\text{개} \end{array} \right.$

2. 79와 81 사이의 수는 80입니다.

3. 세모 모양 4개, 네모 모양 3개이므로 세모 모양이 1개 더 많습니다.

4. ▲ ■ ■ ● 가 반복되는 규칙입니다.



6.  $3+\square=10$ 이므로  $\square$  안의 수는 7입니다.

7. ㉠  $10-\boxed{3}=7$ , ㉡  $8+\boxed{2}=10$   
 ㉢  $10-\boxed{0}=10$   
 $\Rightarrow$  ㉠, ㉡, ㉢의 순서로 씁니다.

8. 짧은 바늘이 3과 4 사이를 가리키고 긴 바늘이 숫자 6을 가리키면 3시 30분입니다.

9. 11시 30분  
 $\Rightarrow$  긴 바늘은 숫자 6을, 짧은 바늘은 11과 12 사이를 가리킵니다.

10. 10 작은 수가 62이므로  
 62보다 10 큰 수는  $\boxed{72}$ 입니다.  
 또는 82가 10 큰 수이므로  
 10 작은 수는  $\boxed{72}$ 입니다.

11. 시계 방향으로 한 칸씩 이동하며 색이 칠해지는 규칙입니다.

12.  $\begin{array}{r} \boxed{㉠} 2 \\ + \quad \boxed{㉡} \\ \hline 4 \quad 7 \end{array}$        $\begin{array}{l} ㉠ : 4 \\ ㉡ : 2+㉡=7 \\ \quad ㉡=5 \end{array}$

13.  $15-7-4=\boxed{4}$

14. ①  $2+9=11$       ②  $6+9=15$   
 ③  $6+8=14$       ④  $5+7=12$

15.  $12+36=48$        $\begin{array}{c} > \\ 78-36=42 \end{array}$

17.  $7+1+\square=10$

$8+\square=10$ 이므로  $\square$  안의 수는 2입니다.

18.  $8-5=3$ ,  $3+\square=5$   
 합이 5가 되는 두 수는 3, 2이므로  $\square$  안의 수는 2입니다.

19.  $95 < \square ㉠$   
 95보다 큰 수이므로 9㉠에서 ㉠은 5보다 커야 합니다. 따라서, ㉠은 6, 7, 8, 9가 될 수 있습니다.