

() 초등학교 5학년 () 반 () 번 이름 ()

초 5 사회 1 / 5

6. 대화의 밑줄 친 부분에 해당하는 것은 어느 것입니까?
..... ()



- ① 학원 ② 도서관 ③ 음식점 ④ 영화관

7. 현수네 가족이 여행을 가기 위해 가족회의를 하였습니다.
회의를 통해 해결하고자 한 내용은 무엇입니까?
..... ()

기준 \ 교통수단	승용차	열 차	고속버스
걸리는 시간	3시간	2시간	4시간
비 용	4만원	5만원	3만원
편리함	○	×	○

- ① 여행 장소의 선택
② 이용할 교통수단의 선택
③ 여행할 때 식사비용의 절약
④ 여행지에서 구입할 물건의 선택

8. 물건을 생산할 때 일을 나누어 하면 좋은 점은 어느 것
입니까? ()

- ① 다양한 기술을 익힐 수 있다.
② 좁은 공간에서도 일할 수 있다.
③ 한 가지 일을 해서 지루하기 쉽다.
④ 빠른 시간에 많은 물건을 생산할 수 있다.

9. 고장의 시장을 견학할 때 조사할 내용으로 알맞지 않은
것은 어느 것입니까? ()

- ① 시장의 위치 ② 상점의 종류와 수
③ 상점 주인의 나이 ④ 판매되는 물건의 종류

10. 고장의 여러 기관 중 예산안을 심의하여 확정하는 활동을
하는 기관은 어디입니까? ()

- ① 신문사 ② 경찰서
③ 시·도청 ④ 시·도 의회

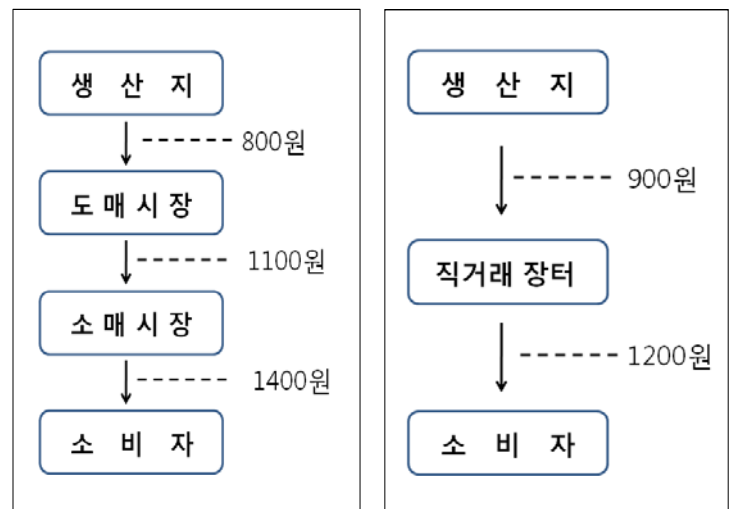
11. 고장 주민들의 바람을 알아보기 위한 방법으로 알맞지
않은 것은 어느 것입니까? ()

- ① 고장 주민과 면담하기
② 외국 친구에게 전화하기
③ 고장의 홈페이지 조사하기
④ 고장의 신문이나 잡지 찾아보기

12. 물건의 유통 과정에서 (나)의 방법이 (가)의 방법보다
좋은 점은 어느 것입니까? ()

(가)

(나)



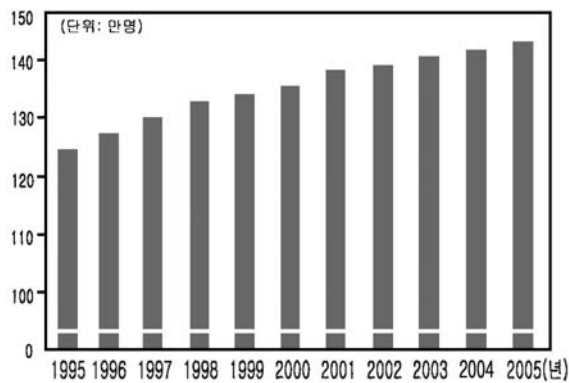
- ① 소비자는 싼 값에 물건을 살 수 있다.
② 생산자는 물건을 더 싼 값에 팔 수 있다.
③ 소비자는 신선한 식품을 구입할 수 없다.
④ 물건이 소비자에게 오기까지 오래 걸린다.

13. 쓰레기 배출량을 줄이기 위한 방법으로 옳지 않은 것은 어느 것입니까? ()

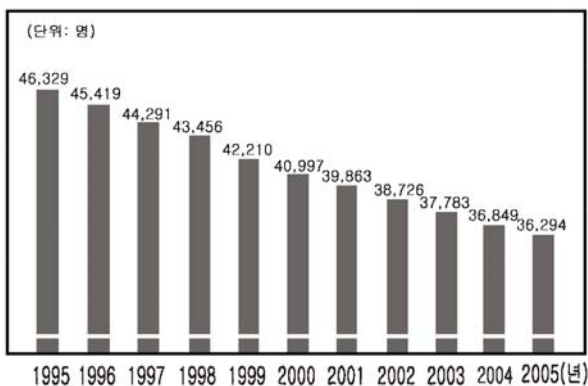
- ① 일회용품을 사용한다.
- ② 쓰레기를 분리수거한다.
- ③ 플라스틱 등은 재활용한다.
- ④ 음식을 남기지 않고 먹는다.

14. 그래프와 같은 인구 변화가 나타나는 두 지역의 특징을 옳게 설명한 것은 어느 것입니까? ()

<도시의 인구변화(대전광역시)>



<농촌의 인구변화(산청군)>



- ① 농촌 일손이 늘어난다.
- ② 도시의 소음이 줄어든다.
- ③ 도시의 교통이 더욱 혼잡해진다.
- ④ 농촌에 새로운 학교가 많이 생겨난다.

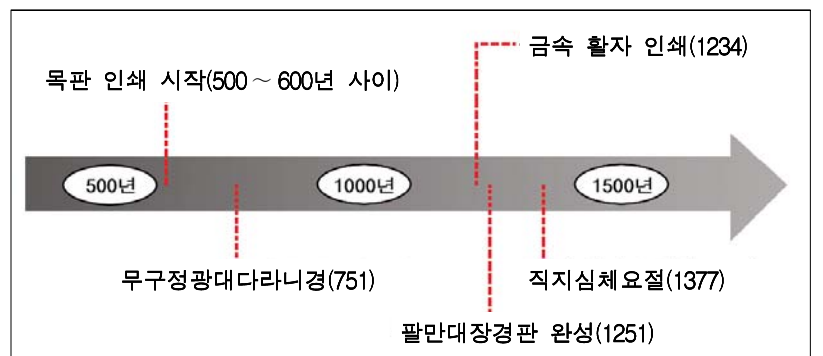
15. 문제를 해결하기 위한 방법으로 가장 알맞은 것은 어느 것입니까? ()



○○군 ○○면 주민들은 자기네 고장이 쓰레기 매립장 후보지로 정해진 것에 반대하고 있다.
 도청에서는 ‘쓰레기 매립장 후보지는 여러 읍·면 주민들의 여론과 전문가의 의견을 종합하여 선정한 것’이라고 하였다.

- ① 서로 대화하고 타협하기
- ② 전문가의 의견대로 따르기
- ③ 우리 고장의 이익을 먼저 생각하기
- ④ 지방 자치 단체가 해결하도록 기다리기

[16~17] 다음 물음에 답하시오.



16. 위와 같이 옛날에 있었던 일들을 일어난 순서에 따라 표로 정리한 것은 무엇입니까? ()

- ① 지도 ② 연표 ③ 그림 ④ 사진

17. 위에서 알 수 있는 사실은 어느 것입니까? ()

- ① 인쇄술의 발달 과정
- ② 금속 활자를 만든 사람
- ③ 직지심체요절이 있는 곳
- ④ 팔만대장경을 만든 이유

18. 옛 도읍지의 문화재를 알아보기 위해 조사할 내용으로 알맞지 않은 것은 어느 것입니까? ()

- ① 주요 문화재의 특징은 무엇인가?
- ② 주요 문화재가 있는 곳은 어디인가?
- ③ 주요 문화재에는 어떤 것이 있는가?
- ④ 문화재 수출 방법에는 어떤 것이 있는가?

19. 지도를 보고 알 수 있는 옛 도읍지의 자연 환경은 어느 것입니까? ()

<평양성 부근>



<웅진성 부근>



- ① 강을 끼고 있다.
- ② 바닷가에 위치한다.
- ③ 산꼭대기에 위치한다.
- ④ 작은 섬으로 둘러싸여 있다.

20. 친구들이 설명하고 있는 세계적으로 인정받은 우리 문화재는 어느 것입니까? ()



- ① 종묘
- ② 화성
- ③ 석굴암
- ④ 해인사 장경판전

21. 옛날에 비하여 달라진 오늘날의 가정생활 모습은 어느 것입니까? ()

- ① 남자들은 주로 농사일을 한다.
- ② 집안일은 가족이 나누어 한다.
- ③ 할아버지, 할머니와 함께 모여 산다.
- ④ 가정의 중요한 일은 남자 어른이 결정한다.

22. <보기>에서 미래의 가정 모습으로 옳은 것은 어느 것입니까? ()

<보기>

- ㄱ. 외국인과의 결혼이 점차 줄어든다.
- ㄴ. 노인 부부만 사는 경우가 많아진다.
- ㄷ. 아이 기르는 일은 아내 혼자 맡는다.
- ㄹ. 컴퓨터의 발달로 회사 일을 집에서 할 수 있다.

- ① ㄱ, ㄴ
- ② ㄱ, ㄷ
- ③ ㄴ, ㄷ
- ④ ㄴ, ㄹ

23. 오늘날의 여가 생활 모습에 해당되지 않는 것은 어느 것입니까? ()

- ① 컴퓨터를 이용해 여가 생활을 즐기고 있다.
- ② 여가 활동을 하면서 봉사 활동을 하기도 한다.
- ③ 마을의 공동체 생활을 중심으로 여가 활동을 한다.
- ④ 교통의 발달로 멀리까지 이동하여 여가 생활을 하기도 한다.

24. 바람직한 여가 생활을 한 사람은 누구입니까?

..... ()

- ① 진영 : 밤늦게까지 텔레비전을 보았다.
- ② 용진 : 도서관에 가서 책을 빌려 읽었다.
- ③ 민희 : 하루 종일 컴퓨터 게임을 하였다.
- ④ 태호 : 이웃집에 시끄러운 정도로 음악을 들었다.

25. 조상들이 즐기던 여가 생활 중 <보기>에서 설명하는 민속놀이는 어느 것입니까? ()

<보기>



조선 시대 널리 보급되었던 놀이로, 대나무를 가늘게 잘라 연살을 만들고 종이를 붙여 하늘에 띄워 날리는 놀이입니다.

- ① 투호

③ 윷놀이

② 널뛰기

④ 연날리기

26. 물건을 살 때 현명한 선택이 필요한 까닭은 무엇입니까? ()

- ① 자원이 너무 많기 때문에
- ② 가정의 소득이 한정되어 있기 때문에
- ③ 사고 싶은 물건은 누구나 같기 때문에
- ④ 마음에 드는 물건은 꼭 사야 하기 때문에

27. 생산 활동에 해당되는 것은 어느 것입니까? ()

- ① 동생과 함께 준비물을 샀다.
- ② 우리 가족은 영화를 보았다.
- ③ 버스를 타고 이모 댁에 갔다.
- ④ 할머니는 밭에서 상추를 따 오셨다.

28. 가장 바람직한 소비를 한 사람은 누구입니까? ()

- ① 영미: 군것질을 많이 한다.
- ② 원진: 공책을 아껴 쓰고 재활용한다.
- ③ 진호: 주로 비싸고 유명한 상품을 산다.
- ④ 소라: 물건이 고장이 나면 그냥 버리고 다시 산다.

29. <보기>에서 ‘수입’에 해당되는 것만을 고른 것은 어느 것입니까? ()

<보기>

ㄱ. 전기료	ㄴ. 아버지 월급
ㄷ. 공책 구입비	ㄹ. 은행 예금 이자

- ① ㄱ, ㄴ

③ ㄴ, ㄷ

② ㄱ, ㄹ

④ ㄴ, ㄹ

30. 다음과 같은 일을 하는 곳은 어디입니까? ()

○ 예금을 받는다.

○ 돈을 빌려 준다.

○ 외국 돈으로 바꾸어 준다.

- ① 회사

③ 우체국

② 은행

④ 동사무소

♣ 수고하셨습니다 ♣

모든 문제에 답을 정확히 썼는지 확인하십시오.