

- 주최 및 주관 : 두산동아
- 후원 : 조선일보사 소년조선일보
- 평가 및 인증 : 큐브수학연구소(CMC)

# 제12회 전국 초등수학학력평가

## 1 학년



### 2008 실력향상

## 한 권으로 끝내는 초등 수학 기본서!

이제부터 수학 공부는 초등 수학 기본서로 시작하십시오.  
3책 분리로 학생의 학습과  
학부모의 지도가 편리합니다.



### 백점 맞는 **비법1**

- Step0(준비)→Step1(개념)→Step2(유형)→Step3(심화)  
→Step4(경시)의 단계적 학습
- 1:1 맞춤형 보충·심화 서비스로 한층 업그레이드 된 단위평가
- 단계적으로 쉽게 접근하여 풀 수 있는 서술형 문제
- 틀린 문제를 한 번 더 풀어 완벽하게 내 것으로 만드는 오답노트

### 백점 맞는 **비법2**

- 계산력을 향상 시킬 수 있도록 반복 연습 문제 제공
- 자주 나오는 문장제를 쉽게 해결할 수 있도록 반복 연습 문제 제공

### 백점 맞는 **비법3**

- 선생님이 따로 필요 없이 스스로 깨칠 수 있는 자세한 풀이
- [한번 읽어 보세요], [이렇게도 풀어요], [쉽게 풀어요], [틀리기 쉬워요], [앞으로 배워요]를 통한 문제 풀이의 핵심 잡기

### 백점 맞는 **비법4**


- 온라인 학습 도우미로 공부 습관 형성
- 클리닉 학습지, 보충·심화 문제, 동영상 강의 제공

**두산동아**

인터넷 학습정보 <http://www.doosandong.com>

1번~25번은 기본과정으로 1문항당 4점씩 100점 만점입니다.

1. 그림을 보고, □ 안에 알맞은 수를 고르시오.  
..... ( )

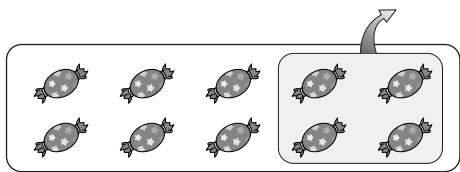


- ① 8                      ② 6                      ③ 4  
④ 2                      ⑤ 0

2. 다음 중 네모 모양이 들어 있는 것은 어느 것입니까? ..... ( )




3. 그림을 보고, 식으로 바르게 나타낸 것은 어느 것입니까? ..... ( )



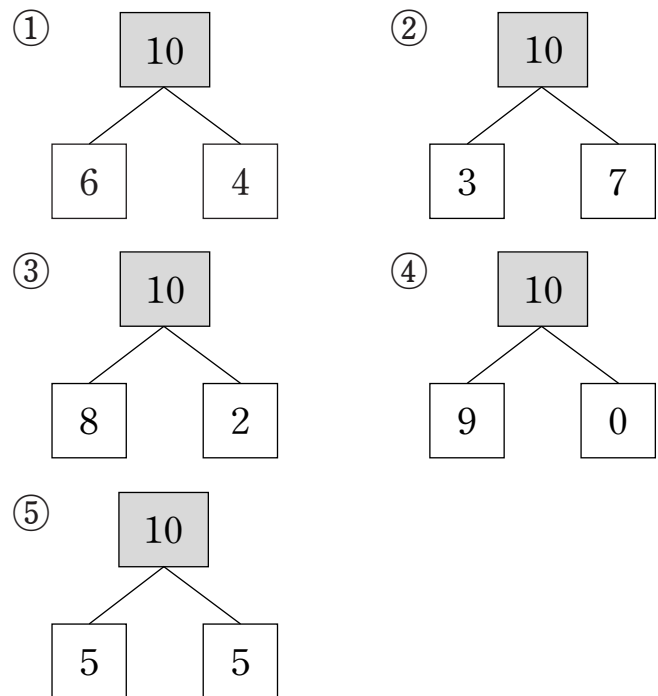
- ①  $10-2=8$                       ②  $10-3=7$   
③  $10-4=6$                       ④  $10-5=5$   
⑤  $10-6=4$

4. 시각을 바르게 읽은 것은 어느 것입니까?  
..... ( )



- ① 2시 30분                      ② 3시                      ③ 3시 30분  
④ 4시                      ⑤ 4시 30분

5. 10을 두 수로 갈랐습니다. 잘못 가른 것은 어느 것입니까? ..... ( )



6. 빵이 10개씩 5봉지와 날개로 6개가 있습니다.  
빵은 모두 몇 개입니까? ..... ( )

- ① 15개                      ② 50개                      ③ 56개  
④ 60개                      ⑤ 65개

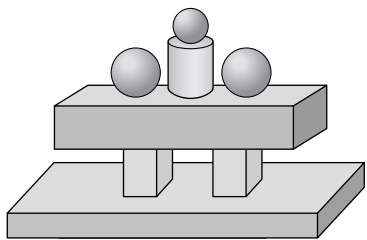
7. 가장 큰 수는 어느 것입니까? ..... ( )

- ① 40                      ② 서른둘                      ③ 삼십구  
④ 스물일곱                      ⑤ 35

8. 상자에 노란색 구슬 1개와 파란색 구슬 9개가 들어 있습니다. 상자에 들어 있는 구슬은 모두 몇 개입니까? ..... (      )

- ① 8개                      ② 10개                      ③ 12개  
④ 15개                      ⑤ 19개

9. 가장 적게 사용한 모양은 어느 것입니까? ..... (      )



- ① 상자 모양                      ② 둥근 기둥 모양  
③ 공 모양

10. 두 수의 합이 다른 하나는 어느 것입니까? ..... (      )

- ①  $8+1$                       ②  $6+3$                       ③  $5+4$   
④  $4+3$                       ⑤  $2+7$

11. 짧은 바늘이 숫자 7과 8 사이에 있는 시각은 어느 것입니까? ..... (      )

- ① 6시                      ② 6시 30분                      ③ 7시 30분  
④ 8시 30분                      ⑤ 9시

㉠ 헤민이네 반 어린이 15명에게 좋아하는 운동을 조사하였습니다. 물음에 답하십시오. (12~13)


12. 가장 많은 어린이들이 좋아하는 운동은 무엇입니까? ..... (      )

- ① 수영                      ② 줄넘기  
③ 야구                      ④ 축구

13. 축구를 좋아하는 어린이는 몇 명입니까? ..... (      )

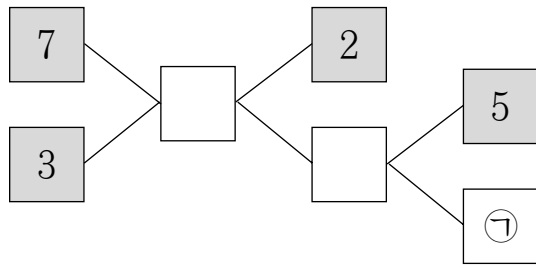
- ① 2명                      ② 3명                      ③ 4명  
④ 5명                      ⑤ 6명

14. 빨셈식을 보고, 덧셈식을 바르게 만든 것은 어느 것입니까? ..... (      )

$$85-73=12$$

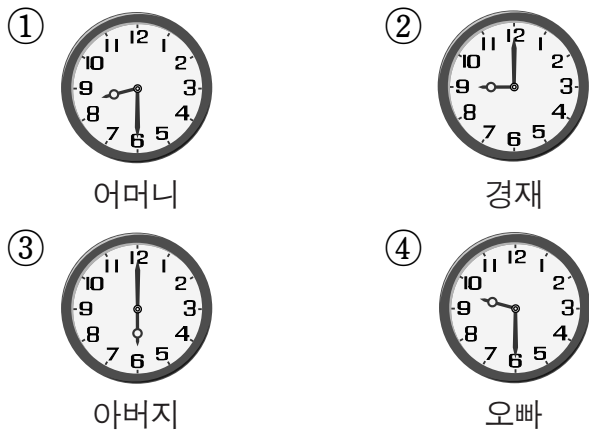
- ①  $12+85=73$                       ②  $58+21=73$   
③  $85+12=73$                       ④  $21+37=85$   
⑤  $12+73=85$

15. ㉠에 알맞은 수는 어느 것입니까?·· ( )

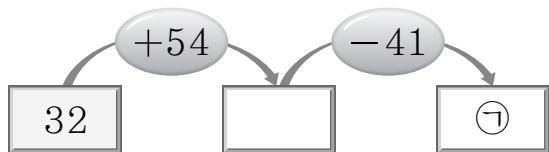


- ① 2                      ② 3                      ③ 4  
④ 5                      ⑤ 6

16. 다음은 경재네 식구들이 오늘 아침 집에서 나간 시각입니다. 가장 늦게 나간 사람은 누구입니까?······ ( )

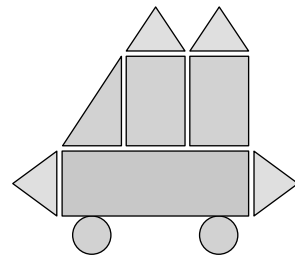


17. ㉠에 알맞은 수는 어느 것입니까?·· ( )



- ① 22                      ② 38                      ③ 45  
④ 73                      ⑤ 86

18. 색종이를 오려서 그림과 같은 모양을 만들었습니다. 세모 모양은 동그라미 모양보다 몇 개 더 사용하였습니까?······ ( )



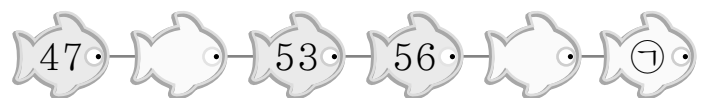
- ① 1개                      ② 2개                      ③ 3개  
④ 4개                      ⑤ 5개

19. ㉠과 ㉡에 알맞은 숫자끼리 바르게 짝지은 것은 어느 것입니까?······ ( )

$$\begin{array}{r} 6 \quad \boxed{\text{㉠}} \\ - 2 \quad 4 \\ \hline \boxed{\text{㉡}} \quad 5 \end{array}$$

- ① ㉠ : 1, ㉡ : 4                      ② ㉠ : 4, ㉡ : 1  
③ ㉠ : 9, ㉡ : 2                      ④ ㉠ : 4, ㉡ : 3  
⑤ ㉠ : 9, ㉡ : 4

20. 규칙에 맞게 수를 써 넣을 때, ㉠에 알맞은 수는 어느 것입니까?······ ( )



- ① 59                      ② 60                      ③ 61  
④ 62                      ⑤ 63

21. 가장 큰 사람은 누구입니까?····· ( )

- 명월이는 준재보다 큼니다.
- 명월이는 승현이보다 작습니다.
- 예준이는 승현이보다 큼니다.

- ① 명월                      ② 준재  
③ 승현                      ④ 예준

22. 다음을 만족하는 수는 모두 몇 개입니까?  
 ..... (       )

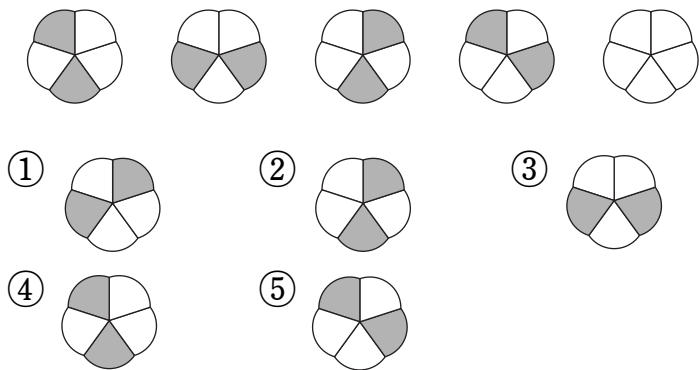
- 일흔여덟과 84 사이의 수입니다.
- 80보다 큰 수입니다.

- ① 2개                      ② 3개                      ③ 4개  
 ④ 5개                      ⑤ 6개

23. 연필 10자루를 지원이와 지혜가 나누어 가지려고 합니다. 지원이가 4자루 더 많이 가지려면, 지원이가 몇 자루를 가지면 됩니까?·· (       )

- ① 5자루                      ② 6자루                      ③ 7자루  
 ④ 8자루                      ⑤ 9자루

24. 규칙에 맞게 색을 칠하려면 마지막 그림에는 어떻게 색을 칠해야 합니까? ..... (       )

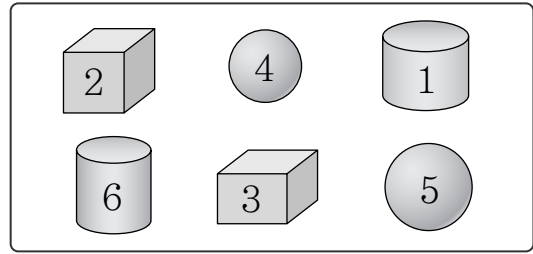


25. 10명이 한 줄로 서 있습니다. 강인이는 앞에서부터 셋째에 서 있고, 동해는 뒤에서부터 둘째에 서 있습니다. 기범이가 강인이 바로 뒤에 서 있다면, 기범이와 동해 사이에 서 있는 사람은 모두 몇 명입니까? ..... (       )

- ① 2명                      ② 3명                      ③ 4명  
 ④ 5명                      ⑤ 6명

26번~35번은 심화과정으로 1문항당 5점씩 50점 만점입니다.

26. 공 모양에 적힌 두 수를 모으면 얼마입니까?  
 ..... (       )



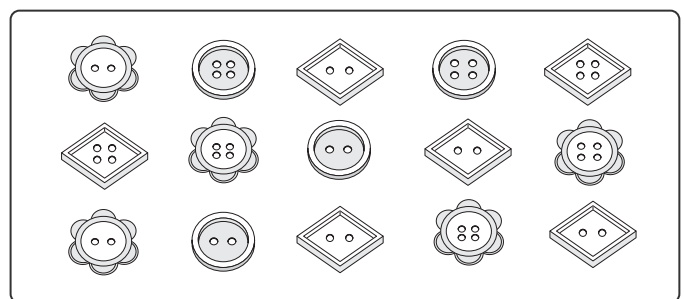
- ① 5                      ② 6                      ③ 7  
 ④ 8                      ⑤ 9

27. 1부터 9까지의 숫자 중에서 □ 안에 들어갈 수 있는 숫자는 모두 몇 개입니까?·· (       )

47은 □3보다 작습니다.

- ① 4개                      ② 5개                      ③ 6개  
 ④ 7개                      ⑤ 8개

28. 주은이가 모은 단추입니다. ◇ 모양이면서 구멍이 2개인 단추는 몇 개입니까?···· (       )




- ① 2개                      ② 3개                      ③ 4개  
 ④ 5개                      ⑤ 6개


29. 장미 6송이와 국화 4송이가 있습니다. 이 꽃을 2개의 꽃병에 똑같이 나누어 꽃으려고 합니다. 한 꽃병에 몇 송이씩 꽃으면 됩니까? .... ( )

- ① 2송이      ② 3송이      ③ 4송이  
④ 5송이      ⑤ 6송이

30. 똑같은 컵에 그림과 같이 물이 들어 있습니다. 물을 더 부어서 각각의 컵을 가득 채우려고 합니다. 물을 가장 많이 부어야 하는 컵은 어느 것입니까? ..... ( )



31. 규칙에 맞게 시계를 움직인 것입니다. 마지막 그림에 알맞은 시각은 어느 것입니까? ( )

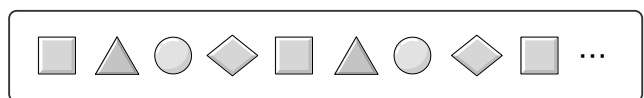


- ① 5시 30분      ② 6시      ③ 6시 30분  
④ 7시      ⑤ 7시 30분

32. 어떤 수에 14를 더해야 하는데 잘못하여 어떤 수에서 14를 빼었더니 50이 되었습니다. 바르게 계산하면 얼마입니까? ..... ( )

- ① 22      ② 36      ③ 64  
④ 78      ⑤ 84

33. 다음과 같은 규칙으로 모양을 계속 늘어놓으면, 25째 번에는 어떤 모양을 놓아야 합니까? ..... ( )



- ① square      ② triangle  
③ circle      ④ diamond

34. 6장의 숫자 카드 중에서 2장을 뽑아 두 자리 수를 만들려고 합니다. 65보다 크고 92보다 작은 수는 모두 몇 개 만들 수 있습니까? ( )



- ① 4개      ② 5개      ③ 6개  
④ 7개      ⑤ 8개

35. △에 알맞은 수는 어느 것입니까? .. ( )

$$\begin{aligned} &\bullet \bigcirc + \square = 8 \\ &\bullet \bigcirc + \triangle - \square = 3 \\ &\bullet \square + \square - \triangle = \bigcirc \end{aligned}$$

- ① 1      ② 2      ③ 3  
④ 4      ⑤ 5