

- 주최 및 주관 : 두산동아
- 후원 : 조선일보사 소년조선일보
- 평가 및 인증 : 큐브수학연구소(CMC)

제 13 회 전국 초등수학학력평가

1 학년

edu
2008

(3년 연속) 학부모가 뽑은
올해의 교육브랜드 大賞


★★★
2008
전면개편

내 수준에 꼭 맞는
3단계
수준별 맞춤수학



1단계 큐브수학 기본

선행학습 교과서 개념서



2단계 큐브수학 실력

시험대비 유형별 문제서



3단계 큐브수학 심화

상위권 학습 고난이도 문제서


두산동아

인터넷 학습정보 <http://www.doosandong.com>

◎ 알맞은 답에 ○표 하고, 답의 번호를 답안지에 바르게 옮겨 쓰시오.

1번~25번은 기본과정으로 1문항당 4점씩 100점 만점입니다.

1. 그림의 수보다 하나 더 적은 수는 어느 것입니까?

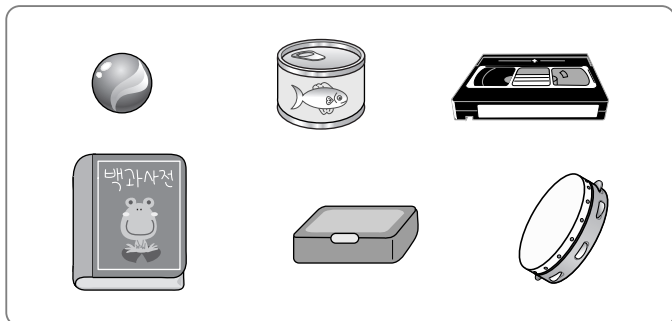


- ① 1 ② 2 ③ 3 ④ 4 ⑤ 5

2. 수를 바르게 읽은 것은 어느 것입니까?

- ① 30 - 삼영 ② 27 - 스물여섯
③ 42 - 사십일 ④ 19 - 열아홉
⑤ 50 - 마흔

3. 둥근 기둥 모양은 몇 개입니까?

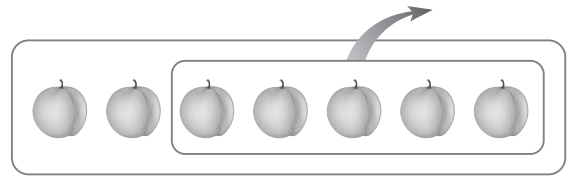


- ① 1개 ② 2개 ③ 3개
④ 4개 ⑤ 5개

4. 다음 중 가장 큰 수는 어느 것입니까?

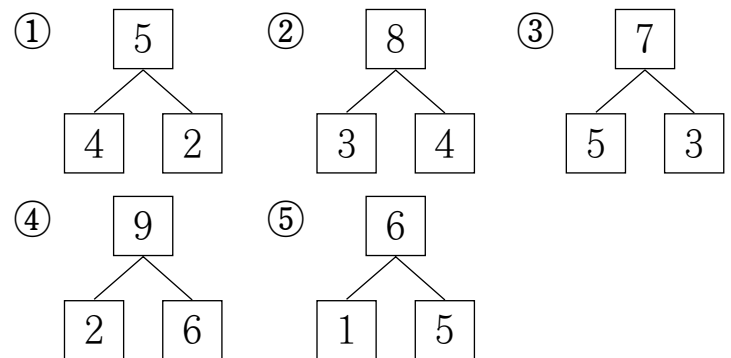
- ① 0 ② 여섯 ③ 9
④ 여덟 ⑤ 4

5. 그림을 보고, 식으로 바르게 나타낸 것은 어느 것입니까?

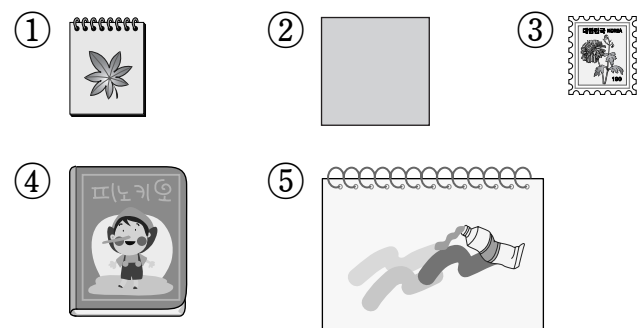


- ① $5-2$ ② $5-3$ ③ $7-2$
④ $7-5$ ⑤ $8-5$

6. 가르기를 바르게 한 것은 어느 것입니까?



7. 다음 중 가장 넓은 것은 어느 것입니까?




8. 두 수의 합을 바르게 구한 것은 어느 것입니까?

7, 1

- ① 5 ② 6 ③ 7 ④ 8 ⑤ 9








9. 가장 높은 쪽에 있는 어린이는 누구입니까?



성주 민영 용재 호연 유미

- ① 성주 ② 민영 ③ 용재
④ 호연 ⑤ 유미

◎ 현진이네 반 어린이들이 좋아하는 동물을 조사한 것입니다. 물음에 답하시오. (10~11)

 강아지	 코끼리	 토끼	 강아지
 토끼	 다람쥐	 강아지	 코끼리
 토끼	 강아지	 토끼	 강아지

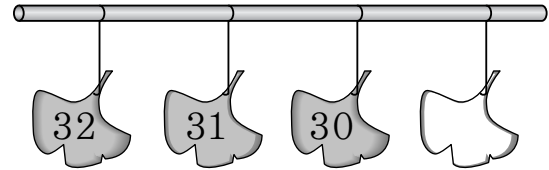
10. 현진이네 반 어린이들이 좋아하는 동물은 모두 몇 가지입니까?

- ① 2가지 ② 4가지 ③ 7가지
④ 10가지 ⑤ 12가지

11. 가장 많은 어린이들이 좋아하는 동물은 무엇입니까?

- ① 강아지 ② 코끼리
③ 토끼 ④ 다람쥐

12. 빈 칸에 알맞은 수는 어느 것입니까?

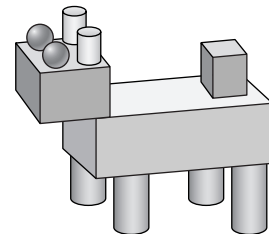


- ① 27 ② 28 ③ 29
④ 31 ⑤ 33

13. 꽃병에 튤립 4송이와 장미 2송이가 꽂혀 있습니다. 꽃병에 꽂혀 있는 꽃은 모두 몇 송이입니까?

- ① 5송이 ② 6송이 ③ 7송이
④ 8송이 ⑤ 9송이

◎ 그림을 보고, 물음에 답하시오. (14~15)



14. 상자 모양은 모두 몇 개를 사용하였습니까?

- ① 1개 ② 2개 ③ 3개

15. 위 모양을 만들기 위해 공 모양 ㉠개, 둥근 기둥 모양 ㉡개를 사용하였습니다. ㉠+㉡은 얼마입니까?

- ① 2 ② 4 ③ 6 ④ 8 ⑤ 10

16. 오른쪽 그림은 어떤 모양의 일부분을 나타낸 것입니다. 이 모양과 같은 모양의 물건은 어느 것입니까?



- ① 축구공 ② 음료수 캔
③ 분필 ④ 수박
⑤ 주사위

◎ 지혜는 친구들의 사진을 모았습니다. 물음에 답하십시오. (17~19)

진희 	윤정 	영은 	현애
지영 	수경 	미영 	현숙
선정 	윤지 	소은 	희정

17. 안경을 쓰지 않은 사람은 몇 명입니까?

- ① 3명 ② 4명 ③ 5명
④ 6명 ⑤ 7명

18. 머리를 묶지 않은 사람은 머리를 묶은 사람보다 몇 명 더 많습니까?

- ① 1명 ② 2명 ③ 3명
④ 4명 ⑤ 5명

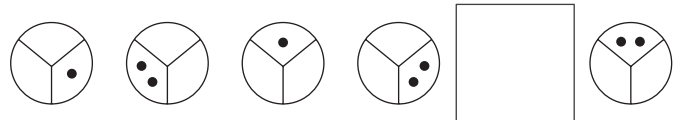
19. 안경을 쓰고 머리를 묶지 않은 사람은 몇 명입니까?

- ① 1명 ② 3명 ③ 5명
④ 7명 ⑤ 9명

20. 성준이는 빨간 구슬 5개와 노란 구슬 2개를 가지고 있고, 은우는 빨간 구슬 몇 개와 노란 구슬 5개를 가지고 있습니다. 두 사람이 가지고 있는 구슬 수가 같다면, 은우가 가지고 있는 빨간 구슬은 몇 개입니까?

- ① 1개 ② 2개 ③ 3개
④ 4개 ⑤ 5개

21. 규칙에 따라 빈 칸에 들어갈 그림으로 알맞은 것은 어느 것입니까?



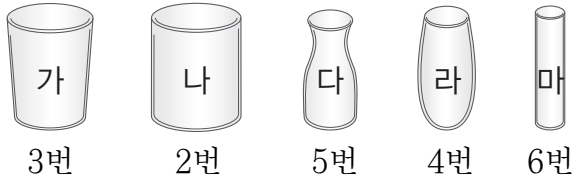
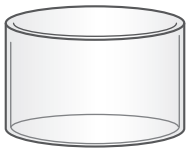
- ① ② ③
④ ⑤

22. 다음을 읽고, 사탕을 가장 많이 가지고 있는 사람을 고르시오.

- 용성 : 나는 23개를 가지고 있어.
- 민정 : 나는 2개만 더 있으면 30개야.
- 정훈 : 나는 스물다섯 개인데.

- ① 용성 ② 민정
③ 정훈 ④ 모두 같습니다.

23. 오른쪽 그림과 같은 물통이 있습니다. 이 물통에 물을 가득 채우려면 각각의 컵으로 다음과 같은 횟수만큼 물을 부어야 한다고 합니다. 물이 가장 많이 들어가는 컵은 어느 것입니까?



- ① 가 ② 나 ③ 다
④ 라 ⑤ 마

24. 사탕 9개를 지효와 동생이 나누어 먹으려고 합니다. 지효가 더 많이 먹을 수 있는 방법은 모두 몇 가지입니까? (단, 한 사람이 적어도 1개는 먹어야 합니다.)

- ① 1가지 ② 2가지 ③ 3가지
④ 4가지 ⑤ 5가지

25. 다음을 읽고, 키가 둘째로 작은 사람을 고르시오.

- 원식은 재경이보다 작고, 현규보다 큼니다.
- 현규는 재혁이보다 크고, 태진이보다 작습니다.
- 태진이는 재경이보다 큼니다.

- ① 원식 ② 재경 ③ 현규
④ 재혁 ⑤ 태진

26번~35번은 심화과정으로 1문항당 5점씩 50점 만점입니다.

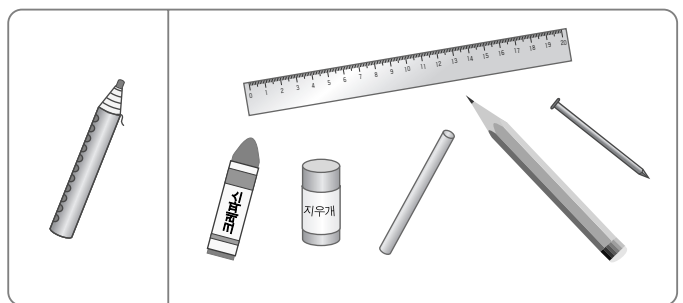
26. 계산한 값이 나머지 넷과 다른 하나는 어느 것입니까?

- ① $3+2$ ② $8-3$
③ $1+4$ ④ $7-1$
⑤ $9-4$

27. 5마리의 동물들이 달리기를 하였습니다. 염소는 뒤에서 둘째 번으로 결승선에 도착하였습니다. 염소는 몇 등입니까?

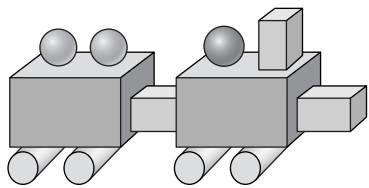
- ① 1등 ② 2등 ③ 3등
④ 4등 ⑤ 5등

28. 왼쪽 색연필보다 더 긴 것은 몇 개입니까?



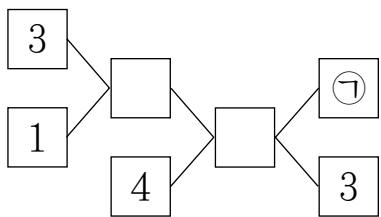
- ① 1개 ② 2개 ③ 3개
④ 4개 ⑤ 5개

29. 상자 모양, 둥근 기둥 모양, 공 모양 중에서 가장 많이 사용한 모양은 어느 것입니까?



- ① 상자 모양 ② 둥근 기둥 모양
③ 공 모양

30. ㉠에 알맞은 수는 어느 것입니까?



- ① 2 ② 4 ③ 5 ④ 7 ⑤ 8

31. 다음을 모두 만족하는 수는 어느 것입니까?

- 5와 9 사이의 수입니다.
- 7보다 작은 수입니다.


- ① 5 ② 6 ③ 7 ④ 8 ⑤ 9

32. 다음과 같이 규칙에 따라 수를 늘어놓았습니다. 15째 번에 올 수는 어느 것입니까?

1, 2, 1, 2, 3, 1, 2, 3, 4, ...

- ① 1 ② 2 ③ 3 ④ 4 ⑤ 5

33. 몸무게가 가장 가벼운 사람은 누구입니까?



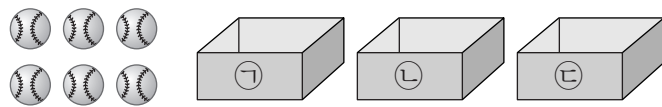
- ① 우현 ② 혜영
③ 민우 ④ 준수

34. 6장의 숫자 카드 중에서 2장을 뽑아 두 자리 수를 만들려고 합니다. 만들 수 있는 수 중에서 32보다 크고 45보다 작은 수는 모두 몇 개입니까?



- ① 6개 ② 7개 ③ 8개
④ 9개 ⑤ 10개

35. 야구공이 6개 있습니다. 이 야구공을 서로 다른 3개의 상자에 나누어 넣으려고 합니다. 나누어 넣을 수 있는 방법은 모두 몇 가지입니까? (단, 야구공을 넣지 않은 상자는 없어야 합니다.)



- ① 3가지 ② 6가지 ③ 8가지
④ 10가지 ⑤ 12가지